

ФЕДЕРАЛЬНОЕ АГЕНТСТВО ПО ОБРАЗОВАНИЮ
Государственное образовательное учреждение высшего профессионального образования
«ТОМСКИЙ ПОЛИТЕХНИЧЕСКИЙ УНИВЕРСИТЕТ»

V.V. Konev

THE ELEMENTS OF MATHEMATICS

WorkBook

*Рекомендовано в качестве учебного пособия
Редакционно-издательским советом
Томского политехнического университета*

Издательство
Томского политехнического университета
2009

UDC 517

V.V. Konev. The Elements of Mathematics. Workbook. The Second Edition.
Tomsk. TPU Press, 2009, 93 p.

The workbook is a supplement to the textbook of the same name.

Reviewed by: V.A. Kilin, Professor of the Higher Mathematics Department,
TPU, D.Sc.

© 2001-2009 Konev V.V.

© 2001-2009 Tomsk Polytechnic University

To the Student

The workbook has been written to introduce you to pre-calculus mathematics and advanced college-level mathematics.

Pre-calculus mathematics topics include:

- a ratio and proportion;
- fractional and negative exponents;
- radicals and exponents;
- operations with polynomials;
- quadratic equations;
- quadratic inequalities;
- algebraic, logarithmic, and exponential functions;
- discrete algebra;
- complex numbers.

Advanced college-level mathematics calculus topics include:

- limits of functions;
- maxima and minima of functions;
- points of inflection of functions;
- asymptotes graphs of functions;
- evaluation and application of derivatives and integrals of functions.

The workbook will help you to develop problem-solving skills and to focus your attention on important problems. You are recommended to use the corresponding textbook when you solve problems. The topics are presented in the same order as in the textbook.

In each section you will find summary and examples with explanations. The presented problems should be solved either on your own or with teacher's help. The key concepts and ideas of mathematics are explained and illustrated by means of examples and figures.

When you complete this supplement you have to be able:

- to operate with functions and plot graphs of elementary functions;
- to determine properties of functions such as the domain, range, intercepts, symmetry;
- to use the properties of algebraic, trigonometric, logarithmic, and exponential functions in solving problems;
- to analyze the properties of functions and their graphs;
- to find the extreme values of function;
- to determine the domain, range, intercepts, symmetry, intervals of increasing or decreasing, points of discontinuity, and asymptotes of functions;

- to use standard differentiation and integration techniques;
- to calculate the area of a region in the plane.

The final tests will estimate your knowledge and skill, your abilities in interpreting symbols, justifying statements and constructing proofs.

You will pass any basic algebra test if you are able:

- to recognize equivalent forms of a number, including square roots and powers of a number;
- to perform the basic operations on numbers and algebraic expressions;
- to solve simple equations and inequalities, including those involving absolute values.
- to solve systems of linear equations in one, two, or three variables;
- to expand products of binomials;
- to factor a quadratic polynomial;
- to solve a quadratic equation in one variable;
- to substitute either numerical values or algebraic expressions in place of a specified variable;
- to read Cartesian (rectangular) graphs, and use them to locate the approximate position of the x -intercepts.

Scoring scale

5	A student clearly demonstrates full understanding of all topics required, answers all given questions, and gives correct and complete answers. Minor calculation errors are admissible.
4	A student gives a complete response that contains a minor mathematical error or misstatement, or gives a correct but slightly incomplete answer.
3	A student demonstrates the ability to determine an appropriate strategy for answering; gives a significant portion of the answer successfully; makes substantial progress toward a correct complete response to that portion of the question.
2	A student demonstrates a limited understanding of the question or makes only minimal progress toward a correct and complete response.
1	A student demonstrates a very limited understanding of the question and makes little or no progress toward a correct and complete response.
0	Blank or off topic answer.

Contents

To the Student	3
Contents.....	5
1. The Real Number System	9
1.1. Self-testing Problems	9
1.1.1. Quiz 1	9
1.1.2. Quiz 2	10
1.1.3. Quiz 3	11
1.1.4. Quiz 4	13
1.2. Problems	15
1.3. Summary Table of the Most Important Formulas	20
1.4. Answers	21
2. Algebraic Expressions	25
2.1. Problems	25
2.2. Summary Table of the Most Important Formulas	31
2.3. Answers	32
3. Algebraic Equations and Inequalities	35
3.1. Linear Equations Involving the Absolute Value $ ax + b $	35
3.2. Linear Inequalities Involving Absolute Value $ ax + b $	36
3.3. Quadratic Equations	41
3.4. Quadratic Inequalities	43
3.5. Answers	46
4. Exponential and Logarithmic Equations and Inequalities	50
4.1. Exponential Equations	50
4.2. Logarithmic Equations	52
4.3. Exponential and Logarithmic Inequalities	53
4.4. Useful Properties of Inequalities.....	55
4.5. Answers	55
5. Functions	58
5.1. Problems	58
5.2. Graphs of the Most Important Functions	63
5.2.1. Problems.....	65
6. Discrete Algebra	73
6.1. Arithmetic and Geometric Progressions: Basic Formulas	73
6.2. Problems	73
7. Complex Numbers	75

7.1. Basic Relationships.....	75
7.2. Problems	75
7.3. Trigonometric Applications of the Euler Formula	77
8. Limits of Functions	78
8.1. The Most Important Formulas	78
8.2. Problems	78
9. Derivatives of Functions.....	80
9.1. A Common Table of Derivatives.....	80
9.2. Problems	80
9.3. Investigation of Functions.....	82
10.Integrals.....	89
10.1. A Common Table of Integrals.....	89
10.2. Problems	89
References.....	92

Содержание

Студенту	3
Содержание.....	5
1. Вещественные числа	9
1.1. Задачи для самопроверки	9
1.1.1. Тест 1	9
1.1.2. Тест 2	10
1.1.3. Тест 3	11
1.1.4. Тест 4	13
1.2. Задачи.....	15
1.3. Сводная таблица наиболее важных формул	20
1.4. Ответы	21
2. Алгебраические выражения.....	25
2.1. Задачи	25
2.2. Сводная таблица наиболее важных формул	31
2.3. Ответы	32
3. Алгебраические уравнения и неравенства.....	35
3.1. Линейные уравнения, содержащие $ ax + b $	35
3.2. Линейные неравенства, содержащие $ ax + b $	36
3.3. Квадратные уравнения.....	41
3.4. Квадратные неравенства.....	43
3.5. Ответы	46
4. Показательные и логарифмические уравнения и неравенства	50
4.1. Показательные уравнения	50
4.2. Логарифмические уравнения	52
4.3. Показательные и логарифмические неравенства.....	53
4.4. Полезные свойства неравенств.....	55
4.5. Ответы	55
5. Функции	58
5.1. Задачи	58
5.2. Графики наиболее важных функций	63
5.2.1. Задачи.....	65
6. Дискретная алгебра	73
6.1. Арифметическая и геометрическая прогрессии: основные формулы	73
6.2. Задачи	73

7. Комплексные числа	75
7.1. Основные соотношения	75
7.2. Задачи	75
7.3. Тригонометрические приложения формулы Эйлера	77
8. Пределы функций.....	78
8.1. Наиболее важные формулы	78
8.2. Задачи	78
9. Производные функций	80
9.1. Таблица производных	80
9.2. Задачи	80
9.3. Исследование функций	82
10. Интегралы.....	89
10.1. Таблица интегралов.....	89
10.2. Задачи	89
Список литературы.....	92

1. Вещественные числа**The Real Number System****1.1. Задачи для самопроверки****Self-testing Problems****1.1.1. Тест 1****Quiz 1**

I. Какие из нижеприведенных чисел являются натуральными?

Which of the following numbers are natural?

$5/2$ $2/5$ $-2/5$ $|-3|$ 7
 -4 $\sqrt{9}$ $\sqrt{5}$ $\sqrt{(-4)^2}$ 0

Ваш ответ: | Your answer:

II. Какие из вышеприведенных чисел являются целыми?

Which of the above numbers are integers?

Ваш ответ: | Your answer:

III. Пусть n – целое число. Какие из нижеприведенных чисел являются четными?

Let n be an integer. Which of the following numbers are even?

$2n$ $3n$ $4n$ $2n-1$ $2n+1$

Ваш ответ: | Your answer:

IV. Какие из вышеприведенных чисел являются нечетными?

Which of the above numbers are odd?

Ваш ответ: | Your answer:

V. Пусть $x = -8$ и $y = -4$. Какие из нижеприведенных выражений являются положительными? Какие из них являются отрицательными?

Let $x = -8$ and $y = -4$. Which of the following expressions are positive? Which of them are negative?

a) xy , b) x/y , c) $y-x$, d) $x+y$,
e) x^2y , f) $2x+y^2$, g) $x-2y$, h) $x|y|$.

Ваше обоснование: | Your reasoning:

1.1.2. Тест 2

I. Какие из нижеприведенных утверждений являются истинными? Исправьте неверные утверждения.

a) $5(x - y) = 5x - y,$

c) $(x + y)^2 = x^2 + y^2,$

e) $x + x = x^2,$

g) $b^5 = b^2 + b^3,$

i) $(x^2)^3 = x^6,$

k) $x^{\frac{1}{2}} = \frac{1}{x^2},$

Quiz 2

Which of the following statements are true? Correct the false propositions.

b) $(7x)^2 = 7x^2,$

d) $(x - y)^2 = 2x - 2y,$

f) $x^2 - y^2 = (x - y)(x + y),$

h) $a^6 = a^3 a^2,$

j) $(x^2)^3 = x^5,$

l) $\frac{1}{x^{-1/2}} = x^{\frac{1}{2}}.$

Ваши ответы: | Your answers:

a) $5(x - y) =$

c) $(x + y)^2 =$

e) $x + x =$

g) $b^5 =$

i) $(x^2)^3 =$

k) $x^{\frac{1}{2}} =$

b) $(7x)^2 =$

d) $(x - y)^2 =$

f) $x^2 - y^2 =$

h) $a^6 =$

j) $(x^2)^3 =$

l) $\frac{1}{x^{-1/2}} =$

II. Дайте правильный ответ для каждого из нижеприведенных ошибочных утверждений.

a) $|x| < 1 \Rightarrow x < 1,$

c) $|x| > 1 \Rightarrow x > 1,$

e) $a^2 < b^2 \Rightarrow a < b,$

g) $\sqrt{25} = \pm 5,$

i) $\sqrt{x - y} = \sqrt{x} - \sqrt{y},$

Give the true proposition for each of the false statements below.

b) $x < 1 \Rightarrow |x| < 1,$

d) $x > 1 \Rightarrow |x| > 1,$

f) $a > 3, \Rightarrow 1/a > 3,$

h) $\sqrt{(-3)^2} = -3,$

j) $\sqrt{x^2 + 1} = x + 1.$

Ваши ответы: | Your answers:

a) $|x| < 1 \Rightarrow$

b) $x < 1 \Rightarrow$

c) $|x| > 1 \Rightarrow$

d) $x > 1 \Rightarrow$

e) $a^2 < b^2 \Rightarrow$

f) $a > 3, \Rightarrow$

g) $\sqrt{25} =$

h) $\sqrt{(-3)^2} =$

i) $\sqrt{x-y} =$

j) $\sqrt{x^2+1} =$

1.1.3. Тест 3

I. Изобразите данные множества в схематическом виде на числовой оси.

a) $\{x \mid 1 < x < 5\}$,

c) $\{x \mid -3 < x \leq 8\}$,

e) $\{x \mid x < 7, x \neq 1\}$,

g) $\{x \mid x > 2\}$,

Quiz 3

Represent each of the given sets by means of a graph on the number line.


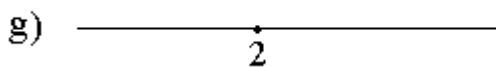




b) $\{x \mid a \leq x \leq b\}$,

d) $\{x \mid 0 \leq x < 11\}$,

f) $\{x \mid x \leq 3\}$,

h) $\{x \mid x \geq 4\}$.

Ваши ответы: | Your answers:



Найдите объединение $A \cup B$ и пересечение $A \cap B$ множеств A и B , если $A = \{x \mid 2 < x < 8\}$ и $B = \{x \mid 5 < x < 10\}$.

Find the union $A \cup B$ and intersection $A \cap B$ of the sets A and B , if $A = \{x \mid 2 < x < 8\}$ and $B = \{x \mid 5 < x < 10\}$.

Ваши ответы: | Your answers:

$$A \cup B =$$

$$A \cap B =$$

II. Найдите объединение $A \cup B$ и пересечение $A \cap B$ множеств A и B , если $A = \{x \mid x < 3\}$ и $B = \{x \mid x > 1\}$.

Find the union $A \cup B$ and intersection $A \cap B$ of the sets A and B , if $A = \{x \mid x < 3\}$ and $B = \{x \mid x > 1\}$.

Ваши ответы: | Your answers:

$$A \cup B =$$

$$A \cap B =$$

III. Пусть $A = \{x \mid x > 9\}$, $B = \{x \mid 2 < x < 4\}$ и $C = \{x \mid x < 3\}$.

Let $A = \{x \mid x > 9\}$, $B = \{x \mid 2 < x < 4\}$ and $C = \{x \mid x < 3\}$

Найдите следующие объединения и пересечения множеств: $A \cup B$, $A \cup C$, $A \cap B$ и $A \cap C$.

Find the following unions and intersections of the sets: $A \cup B$, $A \cup C$, $A \cap B$ and $A \cap C$.

Ваши ответы: | Your answers:

$$A \cup B =$$

$$A \cap B =$$

$$A \cup C =$$

$$A \cap C =$$

1.1.4. Тест 4

I. Если среди нижеприведенных утверждений имеются ложные - внесите в них поправки, ссылаясь на соответствующие свойства дробей. Для помощи используйте Таблицу на стр. 20.

a) $\frac{a}{b} = \frac{5}{7} \Rightarrow a = 5, b = 7.$

c) $\frac{5a - b}{8a} = \frac{5 - b}{8},$

e) $\frac{a}{2} - \frac{a}{c} = \frac{a}{2c},$

g) $\frac{a}{b + c} = \frac{a}{b} + \frac{a}{c},$

i) $\frac{3}{\left(\frac{a}{b}\right)} = \frac{3a}{b},$

Quiz 4

Correct those propositions below, which are false. Present the arguments you use for the corrections by referring to the suitable properties of fractions. Apply the Table for a help (see p. 20).

b) $\frac{a + 4}{4} = a,$

d) $\frac{3}{a} + \frac{b}{4} = \frac{3 + b}{a + 4},$

f) $\frac{a}{4} + \frac{b}{4} = \frac{a + b}{8},$

h) $\frac{\left(\frac{x}{a}\right)}{2} = \frac{2x}{a},$

j) $\frac{a}{4} : \frac{b}{5} = \frac{a}{20b}.$

Ваши ответы: | Select your answers:

a) $\frac{a}{b} = \frac{5}{7} \Rightarrow$

c) $\frac{5a - b}{8a} =$

e) $\frac{a}{2} - \frac{a}{c} =$

g) $\frac{a}{b + c} =$

i) $\frac{3}{\left(\frac{a}{b}\right)} =$

b) $\frac{a + 4}{4} =$

d) $\frac{3}{a} + \frac{b}{4} =$

f) $\frac{a}{4} + \frac{b}{4} =$

h) $\frac{\left(\frac{x}{a}\right)}{2} =$

j) $\frac{a}{4} : \frac{b}{5} =$

II. Какие из нижеприведенных утверждений истинными являются?

Which of the following statements are true?

a) $\lg 8 = \lg 4 + \lg 4,$

b) $\lg 8 = \lg 2 + \lg 4,$

c) $\lg 9 = (\lg 3)^2,$

d) $\lg 9 = 2\lg 3,$

e) $2\lg x = \lg 5 \Rightarrow 2x = 5,$

f) $\lg a - \lg b = \lg(a - b).$

Ваши ответы / Your answer:

a) $\lg 4 + \lg 4 =$

b) $\lg 2 + \lg 4 =$

c) $\lg 9 =$

d) $2\lg 3 =$

e) $2\lg x = \lg 5 \Rightarrow x =$

f) $\lg a - \lg b =$

Полезные свойства | Useful properties

$a + b = b + a$ $ab = ba$	$(a + b) + c = a + (b + c)$ $a(b + c) = ab + ac$
$\frac{a}{c} \pm \frac{b}{c} = \frac{a \pm b}{c}$	$\frac{a}{c} \pm \frac{b}{d} = \frac{ad \pm bc}{cd}$
$a = \frac{ac}{c}$	$\frac{a}{b} = \frac{ac}{bc}$
$\frac{a}{c} \cdot \frac{b}{d} = \frac{ab}{cd}$	$a : \frac{b}{c} = a \cdot \frac{c}{b}$

1.2. Задачи

Задачи 1 - 15: Используя вышеприведенные свойства и не прибегая к помощи калькулятора, вычислить следующие выражения:

1) $23 + 39 + 27 + 61 + 45 =$

2) $19 + 523 + 7 + 81 + 93 =$

3) $68 + 74 - 18 - 24 - 90 =$

4) $21 \cdot 43 + 57 \cdot 21 =$

5) $30 \cdot 64 - 14 \cdot 30 =$

6) $25 \cdot 93 \cdot 4 =$

7) $50 \cdot 17 \cdot 200 \cdot 3 =$

8) $\frac{5}{7} + \frac{9}{7} =$

9) $2 - \frac{11}{6} =$

10) $\frac{1}{2} - \frac{1}{3} =$

11) $\frac{5}{6} + \frac{2}{3} =$

12) $\frac{6}{8} \cdot \frac{12}{3} =$

13) $\frac{6}{5} : \frac{9}{10} =$

14) $\frac{9}{4} \cdot \frac{5}{3} - \frac{7}{8} : \frac{1}{6} =$

15) $\frac{11}{5} : \frac{22}{3} + \frac{9}{14} : \frac{45}{7} =$

Problems

Problems 1 - 15: In view of the above useful properties evaluate the following expressions without using a calculator.

Полезные свойства | Useful properties

$a^0 = 1$	$a^1 = a$
$a^{-p} = \frac{1}{a^p}$	$(a^p)^q = a^{pq}$
$a^p a^q = a^{p+q}$	$\frac{a^p}{a^q} = a^{p-q}$
$(ab)^p = a^p b^p$	$\left(\frac{a}{b}\right)^p = \frac{a^p}{b^p}$

Задачи 16 - 30: Не прибегая к помощи калькулятора, вычислить следующие выражения:

Problems 16 - 30: Without using a calculator, evaluate the following expressions:

- 16) $2^2 2^3 2^4 =$
 17) $3^{-5} 3^7 3^{-2} =$
 18) $8^5 8^{-3} / 8^2 =$
 19) $12(3^{-2} - 4^{-2})7^{-1} =$
 20) $8^{4/3} =$
 21) $1024^{1/10} =$
 22) $27^{2/3} =$
 23) $625^{1/4} - 25^{1/2} =$
 24) $((-3)(-27))^{1/4} =$
 25) $(12^6 30^{-4} 3^{-3} 4^{-3} 5^7 6^7)^{1/3} =$
 26) $2^{1/3} 4^{7/3} 8^{-2/3} =$
 27) $\left(\frac{5^7 2^{11} 3^4}{10^3 6^2}\right)^{1/2} =$
 28) $\left(\frac{5^{-1} 6^5 5^4 6}{5^3 6^{10}}\right)^{-1/4} =$
 29) $\frac{9^{1/2}}{64^{1/6}} + \frac{625^{1/4}}{1000^{1/3}} =$
 30) $\frac{81^{-1/2}}{27^{-2/3}} - \frac{32^{1/5}}{125^{1/3}}$

Полезные свойства | Useful properties

$\sqrt[n]{a} = a^{\frac{1}{n}}$	$(\sqrt[n]{a})^m = \sqrt[n]{a^m}$
$\sqrt[n]{a} \cdot \sqrt[n]{b} = \sqrt[n]{ab}$	$\frac{\sqrt[n]{a}}{\sqrt[n]{b}} = \sqrt[n]{\frac{a}{b}}$

Задачи 31 - 40: Упростить следующие выражения:

Problems 21 - 30: Simplify the following expressions:

31) $a^3 a^7 a^{-2} =$

32) $(a^6 b^{-3} a^0)^{\frac{1}{3}} =$

33) $\left(\frac{a^{-1} b^5 a^4 b}{a^3 b^{10}}\right)^{-2} =$

34) $(a^{\frac{1}{2}} b^{-6} a^{-\frac{5}{2}})^{-\frac{1}{2}} =$

35) $\sqrt{a^3} (\sqrt{a})^5 =$

36) $\frac{\sqrt[5]{x^8}}{(\sqrt[3]{x})^3} =$

37) $\sqrt{x^4 y^3 y^5 x^{-2}} =$

38) $\sqrt[4]{\frac{x^{-3} y^{-5} z^7}{xy^{-1} z^3}} =$

39) $\frac{\sqrt[3]{x^2} \sqrt{x}}{(\sqrt[6]{x})^7} =$

40) $\sqrt[3]{4} \cdot \sqrt[3]{256} \cdot \sqrt[6]{16} =$

Полезные свойства | Useful properties

$\log_a 1 = 0$	$\log_a a = 1$
$\log_a xy = \log_a x + \log_a y $	$\log_a \frac{x}{y} = \log_a x - \log_a y $
$\log_a x^y = y \log_a x $	$\log_a x = \frac{\log_c x}{\log_c a}$
$\log_{1/a} x = -\log_a x$	$\log_{(a^b)} x = \frac{\log_a x}{b}$

Задачи 41 - 50: Не прибегая к помощи калькулятора, вычислить следующие выражения:

Problems 41 - 50: Without using a calculator, evaluate the following expressions:

41) $\lg 2 + \lg 5 =$

42) $\lg 25 + \lg 4 =$

43) $2\lg 5 + \lg 4 =$

44) $\log_4 64 - \log_4 16 =$

45) $4\log_3 \sqrt{3} - \frac{1}{2}\log_3 9 + \log_9 81 =$

46) $2\lg(4\sqrt{5}) - \lg 4 - \frac{1}{2}\lg 9 - 2\lg \sqrt{2} =$

47) $\log_{\frac{1}{4}} (\sqrt[3]{64} \frac{1}{256}) =$

48) $\frac{\log_3 8}{\log_3 2} =$

49) $\frac{\log_3 7}{\log_3 5} - \frac{\log_4 7}{\log_4 5} =$

50) $\log_4 3 \cdot \log_3 16 + 6\ln \sqrt{e} - \lg \frac{\sqrt{20}}{10} - \lg \frac{\sqrt{5}}{10} =$

Полезные свойства | Useful properties

$$x = a^{\log_a x} = 2^{\log_2 x} = 3^{\log_3 x} = \dots = 10^{\lg x} = e^{\ln x}$$

$$y = \log_a a^y = \log_2 2^y = \log_3 3^y = \dots = \lg 10^y = \ln e^y$$

Задачи 51 – 60: Не прибегая к помощи калькулятора, вычислить следующие выражения:

Problems 51 – 60: Without using a calculator, evaluate the following expressions:

51) $10^{\lg 3} =$

52) $3^{\log_3 \sqrt{49}} =$

53) $\frac{e^{2\ln 6}}{4^{2\log_4 6}} =$

54) $e^{-\ln 3 + 4\ln 2} =$

55) $\left(\frac{1}{5}\right)^{-2 + \log_5 3} =$

56) $e^{2\ln 4} + \left(\frac{1}{7}\right)^{-\log_{49} 25} =$

57) $\left(\frac{1}{16}\right)^{-\log_4 5} + 10^{\lg 2 - \lg 1} - 3^{\log_9 36} =$

58) $e^{\ln 4 \cdot \log_4 3} =$

59) $10^{\lg 7 \cdot \log_7 3} =$

60) $\frac{e^{-5\ln a} \cdot \ln e^{3a}}{10^{-4\lg a}} =$

1.3. Сводная таблица наиболее важных формул

Summary Table of the Most Important Formulas

Необходимо твердо запомнить все нижеприведенные тождества.

You have to remember well each of the below identities.

$a(b + c) = ab + ac$	$ a = \begin{cases} a, & a \geq 0 \\ -a, & a < 0 \end{cases}$
$\frac{a}{b} = \frac{ac}{bc}$	$\frac{a}{c} \pm \frac{b}{c} = \frac{a \pm b}{c}$
$\frac{a}{c} \pm \frac{b}{d} = \frac{ad \pm bc}{cd}$	$\frac{a}{c} \cdot \frac{b}{d} = \frac{ab}{cd}$
$a : \frac{b}{c} = a \cdot \frac{c}{b}$	$\frac{a}{b} = \frac{c}{d} \Rightarrow ad = bc$
$a^0 = 1$	$a^p a^q = a^{p+q}$
$\frac{a^p}{a^q} = a^{p-q}$	$a^{-p} = \frac{1}{a^p}$
$(a^p)^q = a^{pq}$	$(ab)^p = a^p b^p$
$\left(\frac{a}{b}\right)^p = \frac{a^p}{b^p}$	$\sqrt[n]{a} = a^{\frac{1}{n}}$
$\sqrt{a^2} = a $	$\sqrt[n]{a} \cdot \sqrt[n]{b} = \sqrt[n]{ab}$
$\frac{\sqrt[n]{a}}{\sqrt[n]{b}} = \sqrt[n]{\frac{a}{b}}$	$(\sqrt[n]{a})^m = \sqrt[n]{a^m}$
$x = a^{\log_a x}$	$y = \log_a a^y$
$\log_a 1 = 0$	$\log_a a = 1$
$\log_a xy = \log_a x + \log_a y $	$\log_a \frac{x}{y} = \log_a x - \log_a y $
$\log_a x^y = y \log_a x $	$\log_a x = \frac{\log_c x}{\log_c a}$
$\log_{1/a} x = -\log_a x$	$\log_{(a^b)} x = \frac{\log_a x}{b}$

1.4. Ответы | Answers

Тест 1 / Test 1:

- I. $|-3|, 7, \sqrt{9}, \sqrt{(-4)^2}$.
- II. $|-3|, 7, -4, \sqrt{9}, \sqrt{(-4)^2}, 0$.
- III. $2n, 4n$.
- IV. $3n, 2n - 1, 2n + 1$.
- V. Положительные: / Positive: $xy, x/y, y - x$.
Отрицательные: / Negative: $x + y, x^2y, x|y|$.

Тест 2 / Test 2:

I.

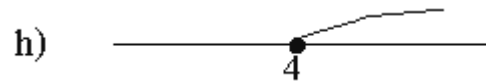
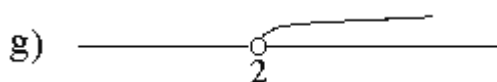
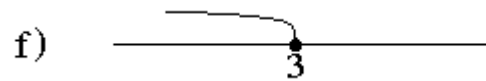
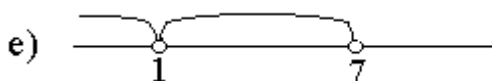
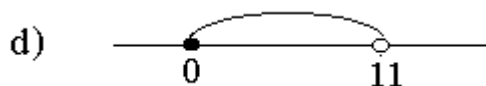
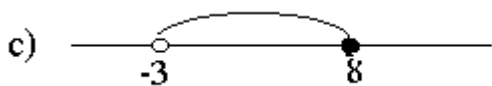
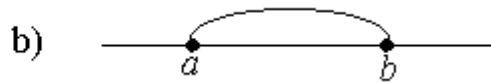
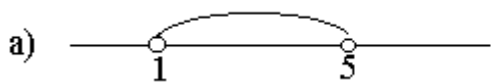
- a) $5(x - y) = 5x - 5y$.
- b) $(7x)^2 = 49x^2$.
- c) $(x + y)^2 = x^2 + 2xy + y^2$.
- d) $(x - y)^2 = x^2 - 2xy + y^2$.
- e) $x + x = 2x$.
- f) $x^2 - y^2 = (x - y)(x + y)$.
- g) $b^5 = b^2b^3$.
- h) $a^6 = (a^3)^2 = aa^5 = a^2a^4 = a^2a^3$.
- i) $(x^2)^3 = x^6$.
- j) $(x^2)^3 = x^6$.
- k) $x^{1/2} = \sqrt{x}$.
- l) $\frac{1}{x^{-1/2}} = x^{1/2}$.

II.

- a) $|x| < 1 \Rightarrow -1 < x < 1$.
- b) Ложь / False.
- c) $|x| > 1 \Rightarrow x < -1$ или / or $x > 1$.
- d) Ложь / False.
- e) $a^2 < b^2 \Rightarrow |a| < |b|$.
- f) $a > 3, \Rightarrow 1/a < 1/3$.
- g) $\sqrt{25} = 5$.
- h) $\sqrt{(-3)^2} = 3$.
- i) Ложь / False.
- j) Ложь / False.

Тест 3 / Test 3:

I.



II.

$$A \cup B = \{x \mid 2 < x < 10\},$$

$$A \cap B = \{x \mid 2 < x < 5\}.$$

III.

$$A \cup B = \{x \mid -\infty < x < +\infty\},$$

$$A \cap B = \{x \mid 1 < x < 3\}.$$

IV.

$$A \cup B = \{x \mid 2 < x < 4\} \cup \{x \mid x > 9\},$$

$$A \cap B = \emptyset,$$

$$A \cup C = \{x \mid x < 3\} \cup \{x \mid x > 9\},$$

$$A \cap C = \emptyset.$$

Тест 4 / Test 4:

I.

a) $\frac{a}{b} = \frac{5}{7} \Rightarrow a = \frac{5}{7}b,$

b) $\frac{a+4}{4} = \frac{a}{4} + 1,$

c) $\frac{5a-b}{8a} = \frac{5}{8} - \frac{b}{8a},$

d) $\frac{3}{a} + \frac{b}{4} = \frac{12+ab}{4a},$

e) $\frac{a}{2} - \frac{a}{c} = \frac{a(c-2)}{2c},$

f) $\frac{a}{4} + \frac{b}{4} = \frac{a+b}{4},$

g) $\frac{a}{b+c} = \frac{a}{b+c},$

h) $\frac{\left(\frac{x}{a}\right)}{2} = \frac{x}{2a},$

i) $\frac{3}{\left(\frac{a}{b}\right)} = \frac{3b}{a},$

j) $\frac{a}{4} : \frac{b}{5} = \frac{5a}{4b}.$

II.

a) $\lg 8 = 3 \lg 2,$

b) $\lg 8 = \lg 2 + \lg 4,$

c) $\lg 9 = 2 \lg 3,$

d) $\lg 9 = 2 \lg 3,$

e) $2 \lg x = \lg 5 \Rightarrow x = \sqrt{5},$

f) $\lg a - \lg b = \lg \frac{a}{b}.$

Задачи 1 - 15 / Problems 1 - 15:

- 1) $23 + 39 + 27 + 61 + 45 = (23 + 27) + (39+61) + 45 = 195.$
- 2) $19 + 523 + 7 + 81 + 93 = (19 + 81) + (7 + 93) + 523 = 723.$
- 3) $68 + 74 - 18 - 24 - 90 = (68 - 18) + (74 -24) - 90 = 10.$
- 4) $21 \cdot 43 + 57 \cdot 21 = 21(43 + 57) = 2100.$
- 5) $30 \cdot 64 - 14 \cdot 30 = 30(64 - 14) = 1500.$
- 6) $25 \cdot 93 \cdot 4 = (25 \cdot 4) \cdot 93 = 9300.$
- 7) $50 \cdot 17 \cdot 200 \cdot 3 = 510000.$
- 8) $\frac{5}{7} + \frac{9}{7} = 2.$
- 9) $2 - 11/6 = 1/6.$
- 10) $\frac{1}{2} - \frac{1}{3} = \frac{1}{6}.$
- 11) $\frac{5}{6} + \frac{2}{3} = \frac{3}{2}.$
- 12) $\frac{6}{8} \cdot \frac{12}{3} = 3.$
- 13) $\frac{6}{5} : \frac{9}{10} = \frac{4}{3}.$
- 14) $\frac{9}{4} \cdot \frac{5}{3} - \frac{7}{8} : \frac{1}{6} = -\frac{3}{2}.$
- 15) $\frac{11}{5} : \frac{22}{3} + \frac{9}{14} : \frac{45}{7} = \frac{2}{5}.$

Задачи 16 - 30 / Problems 16 - 30:

- 16) $2^2 2^3 2^4 = 512.$
- 17) $3^{-5} 3^7 3^{-2} = 1.$
- 18) $8^5 8^{-3} / 8^2 = 1.$
- 19) $12(3^{-2} - 4^{-2})7^{-1} = \frac{1}{12}.$
- 20) $8^{4/3} = 16.$
- 21) $1024^{1/10} = 2.$
- 22) $27^{2/3} = 9.$
- 23) $625^{1/4} - 25^{1/2} = 0.$
- 24) $((-3)(-27))^{1/4} = 3.$
- 25) $(12^6 30^{-4} 3^{-3} 4^{-3} 5^7 6^7)^{1/3} = (12^6 12^{-3} 30^{-4} 30^7)^{1/3} = 360.$
- 26) $2^{1/3} 4^{7/3} 8^{-2/3} = 8.$
- 27) $(\frac{5^7 2^{11} 3^4}{10^3 6^2})^{1/2} = 600.$
- 28) $(\frac{5^{-1} 6^5 5^4 6}{5^3 6^{10}})^{-1/4} = 6.$
- 29) $\frac{9^{1/2}}{64^{1/6}} + \frac{625^{1/4}}{1000^{1/3}} = 2.$
- 30) $\frac{81^{\frac{1}{2}}}{27^{\frac{2}{3}}} - \frac{32^{\frac{1}{5}}}{125^{\frac{1}{3}}} = \frac{3}{5}.$

Задачи 31 – 40 / Problems 31 - 40:

31) $a^3 a^7 a^{-2} = a^8,$

32) $(a^6 b^{-3} a^0)^{1/3} = a^2/b,$

33) $(\frac{a^{-1} b^5 a^4 b}{a^3 b^{10}})^{-2} = b^8,$

34) $(a^2 b^{-6} a^{-5/2})^{-1/2} = ab^3,$

35) $\sqrt{a^3} (\sqrt{a})^5 = a^4,$

36) $\frac{\sqrt[5]{x^8}}{(\sqrt[5]{x})^3} = x,$

37) $\sqrt{x^4 y^3 y^5 x^{-2}} = xy^4,$

38) $\sqrt[4]{\frac{x^{-3} y^{-5} z^7}{xy^{-1} z^3}} = \frac{z}{xy},$

39) $\sqrt[3]{x^2} \sqrt{x} / (\sqrt[6]{x})^7 = 1,$

40) $\sqrt[3]{4} \cdot \sqrt[3]{256} \cdot \sqrt[6]{16} = 16.$

Задачи 41 – 50 / Problems 41 - 50:

41) $\lg 2 + \lg 5 = 1,$

42) $\lg 25 + \lg 4 = 2,$

43) $2\lg 5 + \lg 4 = 2,$

44) $\log_4 64 - \log_4 16 = 1,$

45) $4\log_3 \sqrt{3} - \frac{1}{2}\log_3 9 + \log_9 81 = 3,$

46) $2\lg(4\sqrt{5}) - \lg 4 - \frac{1}{2}\lg 9 - 2\lg \sqrt{2} = 0,$

47) $\log_{\frac{1}{4}} (\sqrt[3]{64} \frac{1}{256}) = 3,$

48) $\frac{\log_3 8}{\log_3 2} = 3,$

49) $\frac{\log_3 7}{\log_3 5} - \frac{\log_4 7}{\log_4 5} = 0,$

50) $\log_4 3 \cdot \log_3 16 + 6\ln \sqrt{e} - \lg \frac{\sqrt{20}}{10} - \lg \frac{\sqrt{5}}{10} = 5.$

Задачи 51 – 60 / Problems 51 - 60:

51) $10^{\lg 3} = 3,$

52) $3^{\log_3 \sqrt{49}} = 7,$

53) $\frac{e^{2\ln 6}}{4^{2\log_4 6}} = 1,$

54) $e^{-\ln 3 + 4\ln 2} = \frac{16}{3},$

55) $(\frac{1}{5})^{-2 + \log_5 3} = \frac{25}{3},$

56) $e^{2\ln 4} + (\frac{1}{7})^{-\log_9 25} = 21,$

57) $(\frac{1}{16})^{-\log_4 5} + 10^{\lg 2 - \lg 1} - 3^{\log_9 36} = 21,$

58) $e^{\ln 4 \cdot \log_4 3} = 3,$

59) $10^{\lg 7 \cdot \log_7 3} = 3,$

60) $\frac{e^{-5\ln a} \cdot \ln e^{3a}}{10^{-4\lg a}} = 3.$

2. Алгебраические выражения

Algebraic Expressions

$a^2 - b^2 = (a - b)(a + b)$
$(a \pm b)^2 = a^2 \pm 2ab + b^2$
$a^3 - b^3 = (a - b)(a^2 + ab + b^2)$
$a^3 + b^3 = (a + b)(a^2 - ab + b^2)$
$(a - b)^3 = a^3 - 3a^2b + 3ab^2 - b^3$
$(a + b)^3 = a^3 + 3a^2b + 3ab^2 + b^3$

2.1. Задачи

Problems

Задачи 1 - 15: Упростить следующие выражения:

Problems 1 - 15: Simplify the following expressions:

1) $\frac{a^2 - b^2}{a - b} =$

2) $\frac{a - b}{\sqrt{a} + \sqrt{b}} =$

3) $\frac{a^3 - b^3}{a - b} =$

4) $\frac{a - b}{\sqrt[3]{a^2} + \sqrt[3]{ab} + \sqrt[3]{b^2}} =$

5) $\frac{a^3 + b^3}{a + b} =$

6) $\frac{a + b}{\sqrt[3]{a} + \sqrt[3]{b}} =$

7) $(a + b)^2 - a^2 - b^2 =$

8) $(a - b)^2 + 2ab =$

$$9) \frac{(x+y)^3 - x^3 - y^3}{3xy} - x - y =$$

$$10) a - 2 - \frac{(1-a)^2 - 1}{a} =$$

$$11) x^2 + 10xy^2 + 25y^4 =$$

$$12) 4 - 28a + 49a^2 =$$

$$13) a^3 + 12a^2b + 48ab^2 + 64b^3 =$$

$$14) (1 + a^2 - \sqrt{2}a)(1 + a^2 + \sqrt{2}a) =$$

$$15) (1-x)(1+x+x^2+x^3+\dots+x^9) =$$

Подсказки:

2) В биноме $(a-b)$ можно распознать разность квадратов $(\sqrt{a})^2$ и $(\sqrt{b})^2$.

4) В биноме $(a-b)$ можно распознать разность кубов $(\sqrt[3]{a})^3$ и $(\sqrt[3]{b})^3$.

6) В биноме $(a+b)$ можно распознать сумму кубов.

7)-10) Используйте формулы сокращенного умножения.

11)-12) В многочленах $(x^2 + 10xy^2 + 25y^4)$ и $(4 - 28a + 49a^2)$ можно распознать квадрат суммы и квадрат разности, соответственно.

13) В многочлене

$$a^3 + 12a^2b + 48ab^2 + 64b^3$$

можно распознать куб суммы.

14)-15) Скажите себе: "Я могу решить любую задачу".

И решайте...

Hints:

2) The binomial $(a-b)$ is recognizable as the difference between two squares, $(\sqrt{a})^2$ and $(\sqrt{b})^2$.

4) The binomial $(a-b)$ is recognizable as the difference between two cubes, $(\sqrt[3]{a})^3$ and $(\sqrt[3]{b})^3$.

6) The binomial $(a+b)$ is recognizable as the sum of two cubes.

7)-10) Use the formulas of expanding.

11)-12) The polynomials

$$x^2 + 10xy^2 + 25y^4, 4 - 28a + 49a^2$$

are recognizable as the perfect square trinomials.

13) The polynomial

$$a^3 + 12a^2b + 48ab^2 + 64b^3$$

is recognizable as the sum cubed.

14)-15) Say yourself: "I am able to solve any problem"; then solve...

Задачи 16- 20: Упростить | **Problems 16 - 20;** Simplify the following expressions:

$$16) \left[\left(\frac{1}{a} + \frac{1}{b+c} \right) : \left(\frac{1}{a} - \frac{1}{b+c} \right) \right] \cdot \left[1 + \frac{b^2 + c^2 - a^2}{2bc} \right] - \frac{(a+b+c)^2}{2bc},$$

$$17) \left(\frac{\sqrt{5}+5}{1+\sqrt{5}+\sqrt{a}} + \frac{5-\sqrt{5}}{1-\sqrt{5}+\sqrt{a}} \right) \cdot \left(\sqrt{a} - \frac{4}{\sqrt{a}} + 2 \right),$$

$$18) \frac{\frac{1}{\sqrt{a-1}} + \sqrt{a-1}}{\frac{1}{\sqrt{a+1}} - \frac{1}{\sqrt{a-1}}} : \frac{(a^2+a)\sqrt{a-1}}{(a-1)\sqrt{a+1} - (a+1)\sqrt{a-1}},$$

$$19) \frac{2\sqrt{b}}{\sqrt{a} + \sqrt{b}} + \left(\frac{a^{3/2} + b^{3/2}}{\sqrt{a} + \sqrt{b}} - \frac{1}{(ab)^{1/2}} \right) \cdot (a-b)^{-1},$$

$$20) \frac{x^3 - a^3}{x^2 + 2ax + a^2} : \left(\frac{x-a}{ax+a^2} - \frac{a+x}{x^2-ax} - \frac{3x+a}{a^2-x^2} \right) - \frac{(x-a)ax}{x+a}.$$

Решение / Solution:

16)

$$\left(\frac{1}{a} + \frac{1}{b+c} \right) : \left(\frac{1}{a} - \frac{1}{b+c} \right) =$$

$$1 + \frac{b^2 + c^2 - a^2}{2bc} =$$

$$\left[\left(\frac{1}{a} + \frac{1}{b+c} \right) : \left(\frac{1}{a} - \frac{1}{b+c} \right) \right] \cdot \left[1 + \frac{b^2 + c^2 - a^2}{2bc} \right] =$$

$$\left[\left(\frac{1}{a} + \frac{1}{b+c} \right) : \left(\frac{1}{a} - \frac{1}{b+c} \right) \right] \cdot \left[1 + \frac{b^2 + c^2 - a^2}{2bc} \right] - \frac{(a+b+c)^2}{2bc} =$$

17)

$$\frac{\sqrt{5}+5}{1+\sqrt{5}+\sqrt{a}} + \frac{5-\sqrt{5}}{1-\sqrt{5}+\sqrt{a}} =$$

$$\sqrt{a} - \frac{4}{\sqrt{a}} + 2 =$$

$$\left(\frac{\sqrt{5}+5}{1+\sqrt{5}+\sqrt{a}} + \frac{\sqrt{5}-5}{1-\sqrt{5}+\sqrt{a}} \right) \cdot \left(\sqrt{a} - \frac{4}{\sqrt{a}} + 2 \right) =$$

18)

$$\frac{\frac{1}{\sqrt{a-1}} + \sqrt{a-1}}{\frac{1}{\sqrt{a+1}} - \frac{1}{\sqrt{a-1}}} =$$

$$\frac{(a^2+a)\sqrt{a-1}}{(a-1)\sqrt{a+1} - (a+1)\sqrt{a-1}} =$$

$$\frac{\frac{1}{\sqrt{a-1}} + \sqrt{a-1}}{\frac{1}{\sqrt{a+1}} - \frac{1}{\sqrt{a-1}}} : \frac{(a^2+a)\sqrt{a-1}}{(a-1)\sqrt{a+1} - (a+1)\sqrt{a-1}} =$$

19)

$$\frac{a^{\frac{3}{2}} + b^{\frac{3}{2}}}{\sqrt{a} + \sqrt{b}} - \frac{1}{(ab)^{-\frac{1}{2}}} =$$

$$\frac{2\sqrt{b}}{\sqrt{a} + \sqrt{b}} + \left(\frac{a^{\frac{3}{2}} + b^{\frac{3}{2}}}{\sqrt{a} + \sqrt{b}} - \frac{1}{(ab)^{-\frac{1}{2}}} \right) \cdot (a-b)^{-1} =$$

20)

$$\frac{x-a}{ax+a^2} - \frac{a+x}{x^2-ax} - \frac{3x+a}{a^2-x^2} =$$

$$\frac{x^3-a^3}{x^2+2ax+a^2} : \left(\frac{x-a}{ax+a^2} - \frac{a+x}{x^2-ax} - \frac{3x+a}{a^2-x^2} \right) =$$

$$\frac{x^3-a^3}{x^2+2ax+a^2} : \left(\frac{x-a}{ax+a^2} - \frac{a+x}{x^2-ax} - \frac{3x+a}{a^2-x^2} \right) - \frac{(x-a)ax}{x+a} =$$

Задачи 21- 30: Разложить на
множители многочлены

Problems 21 - 30: Factor the
following polynomials

21) $x^2 - 2x - 3 =$

22) $x^2 - 3x - 4 =$

23) $x^2 - 4x - 5 =$

24) $x^2 + 6x + 9 =$

25) $x^2 + 5x + 6 =$

26) $x^3 - 2x^2 - 3x =$

27) $x^4 - 4x^3 - 5x^2 =$

28) $x^3 + x^2 - x - 1 =$

29) $x^4 - 16 =$

30) $x^4 + 16 =$

Полезные формулы | Useful formulas

$$\frac{1}{\sqrt{a} \pm \sqrt{b}} = \frac{\sqrt{a} \mp \sqrt{b}}{a - b}$$

$$\frac{1}{\sqrt[3]{a} \pm \sqrt[3]{b}} = \frac{(\sqrt[3]{a^2} \mp \sqrt[3]{ab} + \sqrt[3]{b^2})}{a \pm b}$$

Задачи 31– 40: Освободить от иррациональностей знаменатели следующих дробей:

Problems 31 – 40: Rationalize the denominators of the following fractions:

$$31) \frac{1}{\sqrt{2}} =$$

$$32) \frac{1}{\sqrt{3} - 1} =$$

$$33) \frac{1}{\sqrt{5} + 1} =$$

$$34) \frac{1}{\sqrt{2} + \sqrt{3}} =$$

$$35) \frac{1}{\sqrt{3} + \sqrt{2}} =$$

$$36) \frac{1}{(\sqrt{3} + 1)(\sqrt{5} - 2)} =$$

$$37) \frac{1}{\sqrt[3]{16} - \sqrt[3]{12} + \sqrt[3]{9}} =$$

$$38) \frac{1}{\sqrt[3]{5} - 1} =$$

$$39) \frac{1}{\sqrt[3]{7} - \sqrt[3]{2}} =$$

$$40) \frac{1}{\sqrt[3]{4} + \sqrt[3]{2}} =$$

2.3. Сводная таблица наиболее важных формул

Summary Table of the Most Important Formulas

$a^2 - b^2 = (a-b)(a+b)$
$(a+b)^2 = a^2 + 2ab + b^2$
$(a-b)^2 = a^2 - 2ab + b^2$
$a^3 - b^3 = (a-b)(a^2 + ab + b^2)$
$a^3 + b^3 = (a+b)(a^2 - ab + b^2)$
$(a+b)^3 = a^3 + 3a^2b + 3ab^2 + b^3$
$(a-b)^3 = a^3 - 3a^2b + 3ab^2 - b^3$
$\frac{1}{\sqrt{a} + \sqrt{b}} = \frac{\sqrt{a} - \sqrt{b}}{a - b}$
$\frac{1}{\sqrt{a} - \sqrt{b}} = \frac{\sqrt{a} + \sqrt{b}}{a - b}$
$\frac{1}{\sqrt[3]{a} + \sqrt[3]{b}} = \frac{\sqrt[3]{a^2} - \sqrt[3]{ab} + \sqrt[3]{b^2}}{a + b}$
$\frac{1}{\sqrt[3]{a^2} - \sqrt[3]{ab} + \sqrt[3]{b^2}} = \frac{\sqrt[3]{a} + \sqrt[3]{b}}{a + b}$
$\frac{1}{\sqrt[3]{a} - \sqrt[3]{b}} = \frac{\sqrt[3]{a^2} + \sqrt[3]{ab} + \sqrt[3]{b^2}}{a - b}$
$\frac{1}{\sqrt[3]{a^2} + \sqrt[3]{ab} + \sqrt[3]{b^2}} = \frac{\sqrt[3]{a} - \sqrt[3]{b}}{a - b}$

2.4. ОТВЕТЫ | Answers
Задачи 1 - 15: | Problems 1 - 15:

- 1) $\frac{a^2 - b^2}{a - b} = a + b,$
- 2) $\frac{a - b}{\sqrt{a} + \sqrt{b}} = \sqrt{a} - \sqrt{b},$
- 3) $\frac{a^3 - b^3}{a - b} = a^2 + ab + b^2,$
- 4) $\frac{a - b}{\sqrt[3]{a^2} + \sqrt[3]{ab} + \sqrt[3]{b^2}} = \sqrt[3]{a} - \sqrt[3]{b},$
- 5) $\frac{a^3 + b^3}{a + b} = a^2 - ab + b^2,$
- 6) $\frac{a + b}{\sqrt[3]{a} + \sqrt[3]{b}} = \sqrt[3]{a^2} - \sqrt[3]{ab} + \sqrt[3]{b^2},$
- 7) $(a + b)^2 - a^2 - b^2 = 2ab,$
- 8) $(a - b)^2 + 2ab = a^2 + b^2,$
- 9) $\frac{(x + y)^3 - x^3 - y^3}{3xy} - x - y = 0,$
- 10) $a - 2 - \frac{(1 - a)^2 - 1}{a} = 0,$
- 11) $x^2 + 10xy^2 + 25y^4 = (x + 5y^2)^2,$
- 12) $4 - 28a + 49a^2 = (2 - 7a)^2,$
- 13) $a^3 + 12a^2b + 48ab^2 + 64b^3 = (a + 4b)^3,$
- 14) $(1 + a^2 - \sqrt{2}a)(1 + a^2 + \sqrt{2}a) = 1 + a^4,$
- 15) $(1 - x)(1 + x + x^2 + x^3 + \dots + x^9) = 1 - x^{10}.$

Задачи 16- 20: | Problems 16 - 20:

$$16) \left[\left(\frac{1}{a} + \frac{1}{b+c} \right) : \left(\frac{1}{a} - \frac{1}{b+c} \right) \right] \cdot \left[1 + \frac{b^2 + c^2 - a^2}{2bc} \right] - \frac{(a+b+c)^2}{2bc} =$$

$$= \frac{b+c+a}{b+c-a} \cdot \frac{(b+c)^2 - a^2}{2bc} - \frac{(a+b+c)^2}{2bc} = 0,$$

$$17) \left(\frac{\sqrt{5}+5}{1+\sqrt{5}+\sqrt{a}} + \frac{5-\sqrt{5}}{1-\sqrt{5}+\sqrt{a}} \right) \cdot \left(\sqrt{a} - \frac{4}{\sqrt{a}} + 2 \right) =$$

$$= \frac{10\sqrt{a}}{a+2\sqrt{a}-4} \cdot \frac{a+2\sqrt{a}-4}{\sqrt{a}} = 10,$$

$$18) \frac{\frac{1}{\sqrt{a-1}} + \sqrt{a-1}}{\frac{1}{\sqrt{a+1}} - \frac{1}{\sqrt{a-1}}} : \frac{(a^2+a)\sqrt{a-1}}{(a-1)\sqrt{a+1} - (a+1)\sqrt{a-1}} =$$

$$= \frac{a\sqrt{a+1}}{\sqrt{a-1} - \sqrt{a+1}} : \frac{a\sqrt{a+1}}{\sqrt{a-1} - \sqrt{a+1}} = 1,$$

$$19) \frac{2\sqrt{b}}{\sqrt{a} + \sqrt{b}} + \left(\frac{\frac{3}{a^2} + \frac{3}{b^2}}{\sqrt{a} + \sqrt{b}} - \frac{1}{(ab)^{\frac{1}{2}}} \right) \cdot (a-b)^{-1} =$$

$$= \frac{2\sqrt{b}}{\sqrt{a} + \sqrt{b}} + \frac{(\sqrt{a} - \sqrt{b})^2}{a-b} = 1,$$

$$20) \frac{x^3 - a^3}{x^2 + 2ax + a^2} : \left(\frac{x-a}{ax+a^2} - \frac{a+x}{x^2-ax} - \frac{3x+a}{a^2-x^2} \right) - \frac{(x-a)ax}{x+a} =$$

$$= \frac{x^3 - a^3}{(x+a)^2} : \frac{x^3 - a^3}{(x^2 - a^2)ax} - \frac{(x-a)ax}{x+a} =$$

$$= \frac{(x-a)ax}{x+a} - \frac{(x-a)ax}{x+a} = 0.$$

Задачи 21– 30: | Problems 21 - 30:

- 21) $x^2 - 2x - 3 = (x + 1)(x - 3),$
 22) $x^2 - 3x - 4 = (x + 1)(x - 4),$
 23) $x^2 - 4x - 5 = (x + 1)(x - 5),$
 24) $x^2 + 6x + 9 = (x + 3)^2,$
 25) $x^2 + 5x + 6 = (x + 2)(x + 3),$
 26) $x^3 - 2x^2 - 3x = x(x + 1)(x - 3),$
 27) $x^4 - 4x^3 - 5x^2 = x^2(x + 1)(x - 5),$
 28) $x^3 + x^2 - x - 1 = (x + 1)^2(x - 1),$
 29) $x^4 - 16 = (x^2 + 1)(x - 1)(x + 1),$
 30) $x^4 + 16 = (x^2 + 2\sqrt{2}x + 4)(x^2 - 2\sqrt{2}x + 4).$

Задачи 31– 40: | Problems 31 - 40:

- 31) $\frac{1}{\sqrt{2}} = \frac{\sqrt{2}}{2},$
 32) $\frac{1}{\sqrt{3} - 1} = \frac{1}{2}(\sqrt{3} + 1),$
 33) $\frac{1}{\sqrt{5} + 1} = \frac{1}{4}(\sqrt{5} - 1),$
 34) $\frac{1}{\sqrt{2} + \sqrt{3}} = \sqrt{3} - \sqrt{2},$
 35) $\frac{1}{\sqrt{3} + \sqrt{2}} = \frac{1}{7}\sqrt{3 + \sqrt{2}}(3 - \sqrt{2}),$
 36) $\frac{1}{(\sqrt{3} + 1)(\sqrt{5} - 2)} = \frac{1}{2}(\sqrt{3} - 1)(\sqrt{5} + 2),$
 37) $\frac{1}{\sqrt[3]{16} - \sqrt[3]{12} + \sqrt[3]{9}} = \frac{1}{7}(\sqrt[3]{4} + \sqrt[3]{3}),$
 38) $\frac{1}{\sqrt[3]{5} - 1} = \frac{1}{4}(\sqrt[3]{25} + \sqrt[3]{5} + 1),$
 39) $\frac{1}{\sqrt[3]{7} - \sqrt[3]{2}} = \frac{1}{5}(\sqrt[3]{49} + \sqrt[3]{14} + \sqrt[3]{4}),$
 40) $\frac{1}{\sqrt[3]{4} + \sqrt[3]{2}} = \frac{1}{6}(2\sqrt[3]{2} - \sqrt[3]{8} + \sqrt[3]{4}).$

3. Алгебраические уравнения и неравенства

3.1. Линейные уравнения, содержащие $|ax + b|$

Задачи 1 - 10: Решить уравнения

1) $|x| = 2,$

3) $|x| = -x,$

5) $|x + 1| = x + 1,$

7) $|5x + 2| = 3 - x,$

9) $|3x + 20| = 5x - 4,$

Решение/ Solution:

1) $|x| = 2 \Rightarrow$

2) $|x| = x \Rightarrow$

3) $|x| = -x \Rightarrow$

4) $|x - 3| = 8 \Rightarrow$

5) $|x + 1| = x + 1 \Rightarrow$

6) $|x + 1| = x + 2 \Rightarrow$

7) $|5x + 2| = 3 - x \Rightarrow$

8) $|x - 9| = 1 - 4x \Rightarrow$

9) $|3x + 20| = 5x - 4 \Rightarrow$

10) $|1 - x| = 3x - 2 \Rightarrow$

Algebraic Equations and Inequalities

Linear Equations Involving the Absolute Value $|ax + b|$

Problems 1 - 10: Solve the equations

2) $|x| = x,$

4) $|x - 3| = 8,$

6) $|x + 1| = x + 2,$

8) $|x - 9| = 1 - 4x,$

10) $|1 - x| = 3x - 2.$

Подсказки: Чтобы решить уравнение, содержащее $|ax + b|$, следует освободиться от символов абсолютной величины. Если $ax + b \geq 0$, то знак абсолютной величины можно просто опустить, т.е. $|ax + b| = ax + b$.

Если $ax + b < 0$, то символы абсолютной величины можно также опустить, но при этом нужно изменить знак перед выражением $ax + b$, т.е. $|ax + b| = -(ax + b)$.

Hints: In order to solve an equation involving the absolute value $|ax + b|$ it is necessary to remove the absolute value symbol. If $ax + b \geq 0$ then the absolute value symbol can be simply dropped, that is, $|ax + b| = ax + b$.

If $ax + b < 0$ then the absolute value symbol can be also dropped but the minus sign has to be written in front of $(ax + b)$, that is, $|ax + b| = -(ax + b)$.

3.2. Линейные неравенства, содержащие $|ax + b|$

Задачи 11 - 20: Решите неравенства, содержащие абсолютные величины. Покажите решения на числовой оси.

11) $|x| < 2,$

13) $|x - 3| \leq 5,$

15) $|x| \geq -x,$

17) $|5x + 2| \leq 6 - x,$

19) $|3 - x| > 2x + 1,$

Linear Inequalities Involving the Absolute Value $|ax + b|$

Problems 11 - 20: Solve the following inequalities involving absolute values. Show the solution sets on the number line.

12) $|x| > 2,$

14) $|x + 4| \geq 1,$

16) $|x + 1| < x + 2,$

18) $|4x + 5| > 4x + 1,$




20) $|3x - 1| \geq 5 - x.$

Решение/ Solution:


11) $|x| < 2 \Rightarrow$

12) $|x| > 2 \Rightarrow$


13) $|x - 3| \leq 5 \Rightarrow$



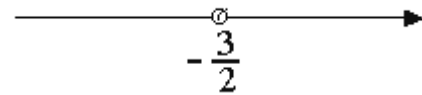
14) $|x + 4| \geq 1 \Rightarrow$




15) $|x| \geq -x \Rightarrow$




16) $|x + 1| < x + 2 \Rightarrow$



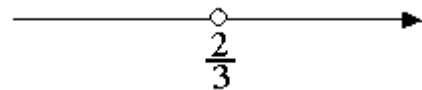
17) $|5x + 2| \leq 6 - x \Rightarrow$



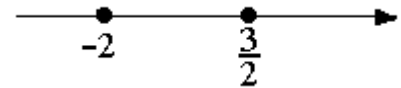
18) $|4x + 5| > 4x + 1 \Rightarrow$



19) $|3 - x| > 2x + 1 \Rightarrow$



20) $|3x - 1| \geq 5 - x \Rightarrow$

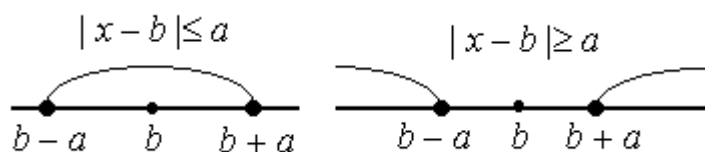


Подсказки: Чтобы решить линейное неравенство, содержащее абсолютную величину $|ax + b|$, нужно сначала избавиться от знака абсолютной величины, а затем решить два обычных неравенства.

Можно также использовать следующую интерпретацию абсолютной величины:

Hints: In order to solve a linear inequality involving the absolute value $|ax + b|$, first, it is necessary, to drop out the absolute value symbol by using the definition of the absolute value. Then solve two ordinary linear inequalities not involving the absolute value symbols.

One can use also the following interpretation of the absolute value:



Задачи 21 - 30: Решить следующие неравенства интервалов: рациональные методом

Problems 21 - 30: Solve the following rational inequalities using the chart method:

$$21) \quad x(x+1) > 0,$$

$$22) \quad x^3(x+1)^7 > 0,$$

$$23) \quad \frac{x+5}{x-3} > 0,$$

$$24) \quad \frac{(x+2)(x-1)}{x+4} < 0,$$

$$25) \quad \frac{(x+2)(x-1)}{x+4} < x-3,$$

$$26) \quad \frac{x+1}{x-2} < x+1,$$

$$27) \quad \frac{x-4}{x-1} > x-4,$$


$$28) \quad \frac{(x-3)^2 x}{x+5} \geq 0,$$

$$29) \quad \frac{(x-7)^3 x^2}{x+1} \geq 0,$$


$$30) \quad \frac{(x-1)(x-2)^2(x-4)}{x^3} \leq 0.$$

Решение/ Solution:

$$21) \quad x(x+1) > 0 \Rightarrow$$



$$22) \quad x^3(x+1)^7 > 0 \Rightarrow$$



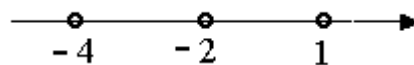
$$23) \quad (x+5)(x-3) < 0 \Rightarrow$$



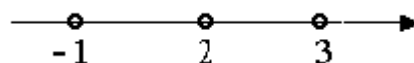
$$24) \quad \frac{x+5}{x-3} > 0 \Rightarrow$$



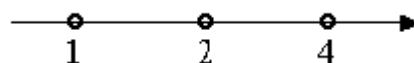
$$25) \frac{(x+2)(x-1)}{x+4} < 0 \Rightarrow$$



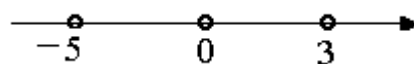
$$26) \frac{x+1}{x-2} < x+1 \Rightarrow$$



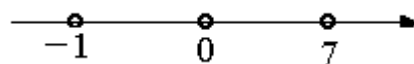
$$27) \frac{x-4}{x-1} > x-4 \Rightarrow$$



$$28) \frac{(x-3)^2 x}{x+5} \geq 0 \Rightarrow$$



$$29) \frac{(x-7)^3 x^2}{x+1} \geq 0 \Rightarrow$$



$$30) \frac{(x-1)(x-2)^2(x-4)}{x^3} \leq 0 \Rightarrow$$



Подсказки: Процедуру решения рационального неравенства можно представить в виде следующих шагов:

- Перенесите все члены в левую часть и объедините их в единое рациональное выражение.
- Разложите на множители

Hints: To solve rational inequality, use the following stepwise procedure:

- Move all terms to the left side of an inequality, leaving zero on the right side.
- Combine the terms into a single rational expression.

числитель и знаменатель.

– Найдите критические точки (точки, в которых числитель или знаменатель обращаются в нуль). Эти точки разбивают числовую ось на интервалы.

– Определите знаки множителей на каждом интервале и отметьте те точки на числовой оси, в которых множители меняют свои знаки. Пометьте интервалы знаками “+” или “-“. Множители, не принимающие отрицательных значений, можно не принимать в расчет при условии, что точки неопределенности нанесены на числовую ось.

– Выберите интервалы, удовлетворяющие требованиям неравенства.

Если неравенство нестрогое, то следует учесть все точки, удовлетворяющие равенству.

– Запишите ответ в виде множества (или объединения множеств), в виде интервала (объединения интервалов) или в виде схематического графика на числовой оси.

Помните, что нельзя умножать обе части неравенства на выражение, знак которого неизвестен или может изменяться.

– Factor the numerator and denominator of this expression.

– Find the critical points, that is, those points in which the numerator or denominator equals zero. Divide the number line into intervals separated by the critical points.

– Analyze each factor to determine where it is negative, zero or positive. Mark each point on the line where the factor changes its sign. Label the intervals with the signs “+” or a “-“.

If some factor is never negative, it may be omitted in the chart providing you record the value of x that makes the expression zero or undefined on the number line.

– Select the intervals that satisfy the requirement of the inequality.

– Use the chart to answer the question asked.

If the inequality problem also involves the equality condition, select the appropriate critical points that satisfy given equation. Usually, these are the values of x which make the numerator equal to zero.

Write your answer in the form of a set (or union of sets), or in the interval notation (or union of intervals), or a graph on the number line. Remember that you should not multiply both sides of an inequality by an expression that contains an unknown or can change a sign.

3.3. Квадратные уравнения**Задачи 31 - 40:** Выделить полный квадрат

31) $x^2 - 2x + 1,$

33) $x^2 + 6x + 5,$

35) $4x^2 + 4x + 1,$

37) $(x - 2)^2 + 3x - 5,$

39) $x(x - 2) - 8x + 9,$

Quadratic Equations**Problems 31 - 40:** Complete the perfect square

32) $x^2 - 2x + 5,$

34) $9 - 8x - x^2,$

36) $9x^2 + 6x - 3,$

38) $(x + 3)^2 - 2x - 30,$

40) $3x(3x - 2) - 6x + 5.$

Примеры:

- $x^2 - 6x + 10 = x^2 - 2 \cdot 3x + 3^2 - 3^2 + 10 = (x - 3)^2 + 1,$

- $25x^2 + 40x - 9 = (5x)^2 + 2 \cdot 5x \cdot 4 + 4^2 - 4^2 - 9 = (5x + 4)^2 - 25.$

Examples:**Решение/ Solution:**

31) $x^2 - 2x + 1 =$

32) $x^2 - 2x + 5 =$

33) $x^2 + 6x + 5 =$

34) $9 - 8x - x^2 =$

35) $4x^2 + 4x + 1 =$

36) $9x^2 + 6x - 3 =$

37) $(x - 2)^2 + 3x - 5 =$

38) $(x + 3)^2 - 2x - 30 =$

39) $x(x - 2) - 8x + 9 =$

40) $3x(3x - 2) - 6x + 5 =$

Задачи 41 - 50: Решить следующие квадратные уравнения:

Problems 41 - 50: Solve the following quadratic equations:

41) $x^2 - 2x - 3 = 0,$

42) $x^2 + 5x - 6 = 0,$

43) $x^2 + 6x + 9 = 0,$

44) $x^2 - 2x + 1 = 0,$

45) $x^2 + 6x + 5 = 0,$

46) $9 - 8x - x^2 = 0,$

47) $9x^2 + 6x - 3 = 0,$

48) $(x + 3)^2 - 2x - 30 = 0,$

49) $x^2 + 7x + 10 = 0,$

50) $3x^2 + 8x + 4 = 0.$

Решение/ Solution:

41) $x^2 - 2x - 3 = 0 \Rightarrow$

42) $x^2 + 5x - 6 = 0 \Rightarrow$

43) $x^2 + 6x + 9 = 0 \Rightarrow$

44) $x^2 - 2x + 1 = 0 \Rightarrow$

45) $x^2 + 6x + 5 = 0 \Rightarrow$

46) $9 - 8x - x^2 = 0 \Rightarrow$

47) $9x^2 + 6x - 3 = 0 \Rightarrow$

48) $(x + 3)^2 - 2x - 30 = 0 \Rightarrow$

49) $x^2 + 7x + 10 = 0 \Rightarrow$

50) $3x^2 + 8x + 4 = 0 \Rightarrow$

Подсказки: Квадратное уравнение

$$ax^2 + bx + c = 0$$

решается любым из следующих методов:

- выделением полного квадрата;
- применением формулы корней квадратного уравнения;
- разложением на множители.

Формула корней квадратного уравнения имеет следующий вид:

$$x_{1,2} = \frac{-b \pm \sqrt{b^2 - 4ac}}{2a}.$$

Корни квадратного уравнения

$$x^2 + bx + c = 0$$

можно также найти с помощью формул

$$x_1 x_2 = c,$$

3.4. Квадратные неравенства

Задачи 51 - 60: Решите квадратные неравенства. Ответы представьте в схематическом виде на числовой оси.

51) $x^2 - 2x - 3 < 0,$

53) $x^2 + 5x - 6 > 0,$

55) $x^2 + 2x - 8 \leq 0,$

57) $x^2 - 10x + 25 \leq 0,$

59) $x(x + 9) > 5x + 5,$

Hints: Quadratic equation

$$ax^2 + bx + c = 0$$

can be solved using any of the following methods:

- completing the perfect square;
- applying the quadratic formula;
- factoring.

The quadratic formula has the following form:

The roots of the quadratic equation

$$x^2 + bx + c = 0$$

can be also found by using the below formulas:

$$x_1 + x_2 = -b.$$

Quadratic Inequalities

Problems 51 - 60: Solve the quadratic inequalities. Write your answers in the form of graphs on the number line.

52) $x^2 - 2x - 3 \geq 0,$

54) $x^2 - 7x + 12 \geq 0,$

56) $x^2 + 6x + 9 < 0,$


58) $x^2 - 8x + 16 > 0,$

60) $x(x - 3) < 9x + 13.$

Пример / Example: $x^2 + 3x - 4 > 0$.

$$x^2 + 3x - 4 = 0 \Rightarrow x_1 = -4, x_2 = 1.$$

$$\{x \mid x < -4\} \cup \{x \mid x > 1\}$$



Решение / Solution:

51) $x^2 - 2x - 3 < 0$,

$x_1 =$

$x_2 =$



52) $x^2 - 2x - 3 \geq 0$

$x_1 =$

$x_2 =$



53) $x^2 + 5x - 6 > 0$

$x_1 =$

$x_2 =$



54) $x^2 - 7x + 12 \geq 0$

$x_1 =$


$x_2 =$



55) $x^2 + 2x - 8 \leq 0$

$x_1 =$


$x_2 =$



56) $x^2 + 6x + 9 < 0$

$x_1 =$


$x_2 =$



57) $x^2 - 10x + 25 \leq 0$

$x_1 =$

$x_2 =$



58) $x^2 - 8x + 16 > 0$

$x_1 =$

$x_2 =$



59) $x(x + 9) > 5x + 5$

$x_1 =$

$x_2 =$



60) $x(x - 3) < 9x + 13$

$x_1 =$

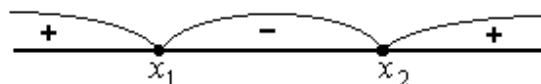
$x_2 =$



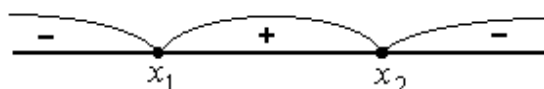
Подсказки: Чтобы решить квадратное неравенство, нужно сначала решить соответствующее квадратное уравнение. Для нахождения множества решений неравенства полезно использовать числовую ось:

Hints: To solve the quadratic inequality it is necessary, first, to solve the corresponding quadratic equation. Then it is helpful to use the number line to find the solution set of the inequality:

$$ax^2 + bx + c \quad (a > 0)$$



$$ax^2 + bx + c \quad (a < 0)$$



3.5. ОТВЕТЫ

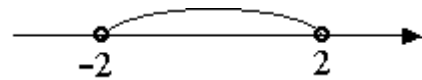
Answers

Задачи 1- 10 / Problems 1 - 10:


- 1) $|x| = 2 \Rightarrow x = \pm 2.$
- 2) $|x| = x \Rightarrow x \geq 0.$
- 3) $|x| = -x \Rightarrow x \leq 0.$
- 4) $|x - 3| = 8 \Rightarrow x_1 = -5, \quad x_2 = 11.$
- 5) $|x + 1| = x + 1 \Rightarrow x \geq -1.$
- 6) $|x + 1| = x + 2 \Rightarrow x = -3/2.$
- 7) $|5x + 2| = 3 - x \Rightarrow x_1 = 1/6, \quad x_2 = -5/4.$
- 8) $|x - 9| = 1 - 4x \Rightarrow x = -8/3.$
- 9) $|3x + 20| = 5x - 4 \Rightarrow x = 12.$
- 10) $|1 - x| = 3x - 2 \Rightarrow x = 3/4.$

Задачи 11 - 20 / Problems 11 - 20:

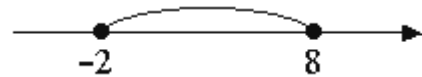
11) $|x| < 2 \Rightarrow -2 < x < 2.$



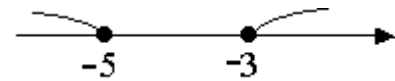
12) $|x| > 2 \Rightarrow \{x|x < -2\} \cup \{x|x > 2\}.$



13) $|x - 3| \leq 5 \Rightarrow -2 \leq x \leq 8.$

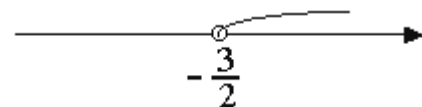


14) $|x + 4| \geq 1 \Rightarrow \{x|x \leq -5\} \cup \{x|x \geq -3\}.$

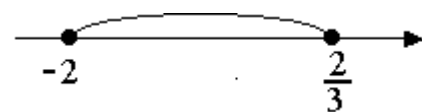


15) $|x| \geq -x \Rightarrow -\infty < x < \infty.$

16) $|x + 1| < x + 2 \Rightarrow x > -3/2.$

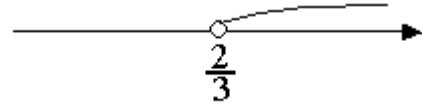


17) $|5x + 2| \leq 6 - x \Rightarrow -2 \leq x \leq 2/3.$

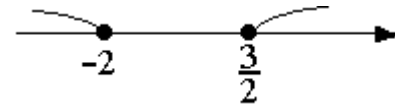


18) $|4x + 5| > 4x + 1 \Rightarrow -\infty < x < \infty.$

$$19) |3 - x| > 2x + 1 \Rightarrow x < 2/3.$$



$$20) |3x - 1| \geq 5 - x \Rightarrow \{x | x \leq -2\} \cup \{x | x \geq 3/2\}.$$



Задачи 21- 30 / Problems 21 - 30:

$$21) x(x + 1) > 0 \Rightarrow \{x | x < -1\} \cup \{x | x > 0\}.$$

$$22) x^3(x + 1)^7 > 0 \Rightarrow \{x | x < -1\} \cup \{x | x > 0\}.$$

$$23) \frac{x + 5}{x - 3} > 0 \Rightarrow (x + 5)(x - 3) > 0 \Rightarrow \{x | x < -5\} \cup \{x | x > 3\}.$$

$$24) \frac{(x + 2)(x - 1)}{x + 4} < 0 \Rightarrow (x + 4)(x + 2)(x - 1) < 0 \Rightarrow \{x | x < -4\} \cup \{x | -2 < x < 1\}.$$

$$25) \frac{(x + 2)(x - 1)}{x + 4} < x - 3 \Rightarrow \frac{10}{x + 4} < 0 \Rightarrow (x + 4) < 0 \Rightarrow x < -4.$$

$$26) \frac{x + 1}{x - 2} < x + 1 \Rightarrow \frac{(x + 1)(3 - x)}{x - 2} < 0 \Rightarrow (x + 1)(x - 2)(x - 3) > 0 \Rightarrow \{x | -1 < x < 2\} \cup \{x | 3 < x\}.$$

$$27) \frac{x - 4}{x - 1} > x - 4 \Rightarrow \frac{(x - 4)(2 - x)}{x - 1} > 0 \Rightarrow (x - 1)(x - 2)(x - 4) < 0 \Rightarrow \{x | x < 1\} \cup \{x | 2 < x < 4\}.$$

$$28) \frac{(x - 3)^2 x}{x + 5} \geq 0 \Rightarrow \frac{x}{x + 5} \geq 0 \Rightarrow \{x | x < -5\} \cup \{x | 0 \leq x\}.$$

$$29) \frac{(x - 7)^3 x^2}{x + 1} \geq 0 \Rightarrow \frac{x - 7}{x + 1} \geq 0 \Rightarrow \{x | x < -1\} \cup \{x | 7 \leq x\}.$$

$$30) \frac{(x - 1)(x - 2)^2(x - 4)}{x^3} \leq 0 \Rightarrow \frac{(x - 1)(x - 4)}{x} \leq 0 \Rightarrow \{x | x < 0\} \cup \{x | 4 \leq x\}.$$

Задачи 31- 40 / Problems 31 - 40:

$$31) \quad x^2 - 2x + 1 = (x - 1)^2.$$

$$32) \quad x^2 - 2x + 5 = (x - 1)^2 + 4.$$

$$33) \quad x^2 + 6x + 5 = (x + 3)^2 - 4.$$

$$34) \quad 9 - 8x - x^2 = 25 - (x + 4)^2.$$

$$35) \quad 4x^2 + 4x + 1 = (2x + 1)^2.$$

$$36) \quad 9x^2 + 6x - 3 = (3x + 1)^2 - 4.$$

$$37) \quad (x - 2)^2 + 3x - 5 = \left(x - \frac{1}{2}\right)^2 - \frac{5}{4}.$$

$$38) \quad (x + 3)^2 - 2x - 30 = (x + 2)^2 - 25.$$

$$39) \quad x(x - 2) - 8x + 9 = (x - 5)^2 - 16.$$

$$40) \quad 3x(3x - 2) - 6x + 5 = (3x - 2)^2 + 1.$$

Задачи 41- 50 / Problems 41 - 50:

$$41) \quad x^2 - 2x - 3 = 0 \Rightarrow \quad x_1 = -1, \quad x_2 = 3.$$

$$42) \quad x^2 + 5x - 6 = 0 \Rightarrow \quad x_1 = 1, \quad x_2 = -6.$$

$$43) \quad x^2 + 6x + 9 = 0 \Rightarrow \quad x = -3.$$

$$44) \quad x^2 - 2x + 1 = 0 \Rightarrow \quad x = 1.$$

$$45) \quad x^2 + 6x + 5 = 0 \Rightarrow \quad x_1 = -1, \quad x_2 = -5.$$

$$46) \quad 9 - 8x - x^2 = 0 \Rightarrow \quad x_1 = -9, \quad x_2 = 1.$$

$$47) \quad 9x^2 + 6x - 3 = 0 \Rightarrow \quad x_1 = -1, \quad x_2 = \frac{1}{3}.$$

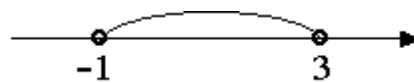
$$48) \quad (x + 3)^2 - 2x - 30 = 0 \Rightarrow \quad x_1 = -7, \quad x_2 = 3.$$

$$49) \quad x^2 + 7x + 10 = 0 \Rightarrow \quad x_1 = -5, \quad x_2 = -2.$$


$$50) \quad 3x^2 + 8x + 4 = 0 \Rightarrow \quad x_1 = -2, \quad x_2 = -\frac{2}{3}.$$

Задачи 51– 60 / Problems 51 - 60:


51) $x^2 - 2x - 3 < 0$




52) $x^2 - 2x - 3 \geq 0$



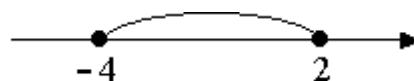
53) $x^2 + 5x - 6 > 0$



54) $x^2 - 7x + 12 \geq 0$




55) $x^2 + 2x - 8 \leq 0$

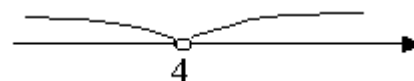


56) $x^2 + 6x + 9 < 0 \Rightarrow x \in \emptyset.$

57) $x^2 - 10x + 25 \leq 0$



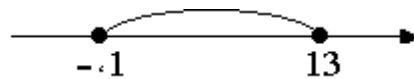
58) $x^2 - 8x + 16 > 0$



59) $x(x + 9) > 5x + 5$



60) $x(x - 3) < 9x + 13$



4. Показательные и логарифмические уравнения и неравенства

4.1. Показательные уравнения

Задачи 1 - 10: Решить уравнения

$$1) 7^{5-x} = 1,$$

$$3) 3^{2x+5} = 27,$$

$$5) \left(\frac{2}{5}\right)^{7-2x} = \frac{25}{4},$$

$$7) 5^{|x|-2} = 125,$$

$$9) 36^x - 4 \cdot 6^x - 12 = 0,$$

Решение/ Solution:

$$1) 7^{5-x} = 1 \Rightarrow$$

Проверка / Check-up:

$$2) 3^{4x-1} = 3 \Rightarrow$$

Проверка / Check-up:

$$3) 3^{2x+5} = 27 \Rightarrow$$

Проверка / Check-up:

$$4) 4^{9-6x} = 2 \Rightarrow$$

Проверка / Check-up:

$$5) \left(\frac{2}{5}\right)^{7-2x} = \frac{25}{4} \Rightarrow$$

Exponential and Logarithmic Equations and Inequalities

Exponential Equations

Problems 1 - 10: Solve the equations

$$2) 3^{4x-1} = 3,$$

$$4) 4^{9-6x} = 2,$$

$$6) \left(\frac{1}{4}\right)^{x^2+4x+1} = 64,$$

$$8) 4^{7x+6} = 8^{5-x},$$

$$10) 4^{2x} + 6 \cdot 12^x - 7 \cdot 3^{2x} = 0.$$

Проверка / Check-up:

6) $\left(\frac{1}{4}\right)^{x^2+4x+1} = 64 \Rightarrow$

Проверка / Check-up:

7) $5^{|x|-2} = 125 \Rightarrow$

Проверка / Check-up:

8) $4^{7x+6} = 8^{5-x} \Rightarrow$

Проверка / Check-up:

9) $36^x - 4 \cdot 6^x - 12 = 0 \Rightarrow$

Проверка / Check-up:

10) $4^{2x} + 6 \cdot 12^x - 7 \cdot 3^{2x} = 0 \Rightarrow$

Проверка / Check-up:**Подсказки:**

Используйте
свойства
выражений:

следующие
показательных

Hints:

Use the following properties of
exponentials:

$$a^b = 1 \Rightarrow b = 0.$$

$$a^b = a^c \Rightarrow b = c.$$

Для решения Задачи 9
используйте подстановку $y = 6^x$.

Чтобы решить Задачу 10,
сначала разделите обе части
уравнения на 3^{2x} , а затем
сделайте подстановку $y = \left(\frac{4}{3}\right)^x$.

To solve Problem 9 use the
substitution $y = 6^x$.

To solve Problem 10, divide both
sides of the equation by the term
 3^{2x} , then use the substitution
 $y = \left(\frac{4}{3}\right)^x$.

4.2. Логарифмические Уравнения

Задачи 11 - 20: Решить следующие уравнения:

$$11) \log_3 x = 2,$$

$$13) \log_5(x^2 - 2x + 6/5) = -1,$$

$$15) \log_2(2^x - 8) = 3,$$

$$17) \log_5 x = 2\log_5 3 + 4\log_{25} 7,$$

$$19) x^{\lg x} = 10,$$

Logarithmic Equations

Problems 11 - 20: Solve the following equations:

$$12) \lg x^2 = 4,$$

$$14) \log_4 2^{-x} = 1,$$

$$16) \lg(\lg x) + \lg(\lg x^2 - 1) = 1,$$

$$18) \log_2(3\log_3(\log_2 x)) = 0,$$

$$20) (10^{\lg x})^{\lg x} = 10000.$$

Решение/ Solution:

$$11) \log_3 x = 2 \Rightarrow$$

Проверка / Check-up:

$$12) \lg x^2 = 4 \Rightarrow$$

Проверка / Check-up:

$$13) \log_5(x^2 - 2x + 6/5) = -1 \Rightarrow$$

Проверка / Check-up:

$$14) \log_4 2^{-x} = 1 \Rightarrow$$

Проверка / Check-up:

$$15) \log_2(2^x - 8) = 3 \Rightarrow$$

Проверка / Check-up:

$$16) \lg(\lg x) + \lg(\lg x^2 - 1) = 1 \Rightarrow$$

Проверка / Check-up:

$$17) \log_5 x = 2\log_5 3 + 4\log_{25} 7 \Rightarrow$$

Проверка / Check-up:

$$18) \log_2(3\log_3(\log_2 x)) = 0 \Rightarrow$$

Проверка / Check-up:

$$19) x^{\lg x} = 10 \Rightarrow$$

Проверка / Check-up:

$$20) (10^{\lg x})^{\lg x} = 10000 \Rightarrow$$

Проверка / Check-up:

Подсказка:

Используйте логарифмические тождества. (См. сводную таблицу наиболее важных формул).

4.3. Показательные и логарифмические неравенства

Задачи 21 - 30: Решить следующие неравенства:

$$21) 3^{2x+5} < 27,$$

$$23) 3^{2x+5} \leq 3^{x+2} + 2,$$

$$25) \log_5(x^2 - 3) > 0,$$

$$27) \lg(\log_2 x) > 1,$$

$$29) \log_{\frac{1}{2}} \log_3 \frac{3x}{x-2} < 0,$$

Hint:

Use logarithmic identities. (See Summary Table of the Most Important Formulas).

Exponential and Logarithmic Inequalities

Problems 21 - 30: Solve the following inequalities:

$$22) 4^{9-6x} > 2,$$

$$24) \left(\frac{2}{5}\right)^{7-2x} \leq \frac{25}{4},$$

$$26) \log_3(x^2 - 6) < 1,$$

$$28) \log_5(\log_2 x) > 0,$$

$$30) \log_x(x+2) < 0.$$

Решение/ Solution:

21) $3^{2x+5} < 27 \Rightarrow$

22) $4^{9-6x} > 2 \Rightarrow$

23) $3^{2x+5} \leq 3^{x+2} + 2 \Rightarrow$

24) $\left(\frac{2}{5}\right)^{7-2x} \leq \frac{25}{4} \Rightarrow$

25) $\log_5(x^2 - 3) > 0 \Rightarrow$

26) $\log_3(x^2 - 6) < 1 \Rightarrow$

27) $\lg(\log_2 x) > 1 \Rightarrow$

28) $\log_5(\log_2 x) > 0 \Rightarrow$

29) $\log_{\frac{1}{2}} \log_3 \frac{3x}{x-2} < 0 \Rightarrow$

30) $\log_x(x+2) < 0 \Rightarrow$

4.4. Полезные свойства неравенств

Useful Properties of Inequalities

$\left. \begin{array}{l} a^b > a^c \\ a > 1 \end{array} \right\}$	\Rightarrow	$b > c$
$\left. \begin{array}{l} a^b > a^c \\ a < 1 \end{array} \right\}$	\Rightarrow	$b < c$
$\left. \begin{array}{l} \log_a b > \log_a c \\ a > 1 \end{array} \right\}$	\Rightarrow	$b > c$
$\left. \begin{array}{l} \log_a b > \log_a c \\ 0 < a < 1 \end{array} \right\}$	\Rightarrow	$b < c,$
$\left. \begin{array}{l} a^b > 1 \\ a > 1 \end{array} \right\}$	\Rightarrow	$b > 0$
$\left. \begin{array}{l} a^b > 1 \\ a < 1 \end{array} \right\}$	\Rightarrow	$b < 0$
$\left. \begin{array}{l} \log_a b > 0 \\ a > 1 \end{array} \right\}$	\Rightarrow	$b > 1$
$\left. \begin{array}{l} \log_a b > 0 \\ 0 < a < 1 \end{array} \right\}$	\Rightarrow	$0 < b < 1$

4.5. Ответы | Answers

Задачи 1- 10 / Problems 1 - 10:

- 1) $7^{5-x} = 1 \Rightarrow x = 5.$
 2) $3^{4x-1} = 3, \Rightarrow x = 1/2.$
 3) $3^{2x+5} = 27, \Rightarrow x = -1.$
 4) $4^{9-6x} = 2, \Rightarrow x = 17/12.$
 5) $\left(\frac{2}{5}\right)^{7-2x} = \frac{25}{4}, \Rightarrow x = 9/2.$
 6) $\left(\frac{1}{4}\right)^{x^2+4x+1} = 64, \Rightarrow x = -2.$
 7) $5^{|x|-2} = 125, \Rightarrow x = \pm 5.$
 8) $4^{7x+6} = 8^{5-x}, \Rightarrow x = 3/17.$
 9) $36^x - 4 \cdot 6^x - 12 = 0, \Rightarrow x = 1.$
 10) $4^{2x} + 6 \cdot 12^x - 7 \cdot 3^{2x} = 0. \Rightarrow x = 0.$

Задачи 11- 20 / Problems 11 - 20:

- 11) $\log_3 x = 2 \Rightarrow x = 9.$
 12) $\lg x^2 = 4 \Rightarrow x = \pm 100.$
 13) $\log_5(x^2 - 2x + 6/5) = -1 \Rightarrow x = 1.$
 14) $\log_4 2^{-x} = 1 \Rightarrow x = -2.$
 15) $\log_2(2^x - 8) = 3 \Rightarrow x = 4.$
 16) $\lg(\lg x) + \lg(\lg x^2 - 1) = 1 \Rightarrow \lg x = \frac{5}{2} \Rightarrow x = 10^{\frac{5}{2}}.$
 17) $\log_5 x = 2\log_5 3 + 4\log_{25} 7 \Rightarrow x = 441.$
 18) $\log_2(3\log_3(\log_2 x)) = 0 \Rightarrow x = 2^{\sqrt[3]{3}}.$
 19) $x^{\lg x} = 10 \Rightarrow \lg x = \pm 1 \Rightarrow x_1 = 10, x_2 = 0.1$
 20) $(10^{\lg x})^{\lg x} = 10000 \Rightarrow x^{\lg x} = 10000 \Rightarrow \lg x = \pm 4 \Rightarrow x_1 = 10000, x_2 = 0.0001.$

Задачи 21– 30 / Problems 21 - 30:

- 21) $3^{2x+5} < 27 \Rightarrow x < -1.$
 22) $4^{9-6x} > 2 \Rightarrow x < 17/12.$
 23) $3^{2x+5} \leq 3^{x+2} + 2 \Rightarrow x \leq -2.$
 24) $\left(\frac{2}{5}\right)^{7-2x} \leq \frac{25}{4} \Rightarrow x \leq 9/2.$
 25) $\log_5(x^2 - 3) > 0 \Rightarrow |x| > 2.$
 26) $\log_3(x^2 - 6) < 1 \Rightarrow \sqrt{6} < |x| < 3.$
 27) $\lg(\log_2 x) > 1 \Rightarrow x > 1024.$
 28) $\log_5(\log_2 x) > 0 \Rightarrow x > 2.$
 29) $\log_{\frac{1}{2}} \log_3 \frac{3x}{x-2} < 0 \Rightarrow x > 2.$
 30) $\log_x(x+2) < 0 \Rightarrow 0 < x < 1.$

5. Функции

5.1. Задачи

Задачи 1 - 15: Найти области определения и области изменения функций

$$1) f(x) = \frac{4x+3}{2x-1},$$

$$3) f(x) = \frac{|x|}{x},$$

$$5) f(x) = \frac{1}{\sqrt{x^2-9}},$$

$$7) f(x) = \sqrt{x^2-9},$$

$$9) f(x) = \frac{5x^2}{x^2-3x-4},$$

$$11) f(x) = \ln|x|,$$

$$13) f(x) = |\ln x|,$$

$$15) f(x) = \frac{1}{\ln(x+1)}.$$

Решение/ Solution:

$$1) f(x) = \frac{4x+3}{2x-1} \Rightarrow$$

Domain:

$$2) f(x) = \frac{4x-3}{2x+1} \Rightarrow$$

Domain:

$$3) f(x) = \frac{|x|}{x} \Rightarrow$$

Domain:

$$4) f(x) = \frac{1}{\sqrt{x+2}} \Rightarrow$$

Domain:

Functions

Problems

Problems 1 - 15: Find the domain and range of the functions

$$2) f(x) = \frac{4x-3}{2x+1},$$

$$4) f(x) = \frac{1}{\sqrt{x+2}},$$

$$6) f(x) = \frac{x-1}{\sqrt{x^2+9}},$$

$$8) f(x) = \frac{1}{(x-1)(x+2)},$$

$$10) f(x) = \ln x,$$

$$12) f(x) = \ln|x-2|,$$

$$14) f(x) = \frac{1}{\ln x + 1},$$

Range:

Range:

Range:

Range:

$$5) f(x) = \frac{1}{\sqrt{x^2 - 9}} \Rightarrow$$

Domain:

Range:

$$6) f(x) = \frac{x-1}{\sqrt{x^2 + 9}} \Rightarrow$$

Domain:

Range:

$$7) f(x) = \sqrt{x^2 - 9} \Rightarrow$$

Domain:

Range:

$$8) f(x) = \frac{1}{(x-1)(x+2)} \Rightarrow$$

Domain:

Range:

$$9) f(x) = \frac{5x^2}{x^2 - 3x - 4} \Rightarrow$$

Domain:

Range:

$$10) f(x) = \ln x \Rightarrow$$

Domain:

Range:

$$11) f(x) = \ln |x| \Rightarrow$$

Domain:

Range:

$$12) f(x) = \ln |x - 2| \Rightarrow$$

Domain:

Range:

$$13) f(x) = |\ln x| \Rightarrow$$

Domain:

Range:

$$14) f(x) = \frac{1}{\ln x + 1} \Rightarrow$$

Domain:

Range:

$$15) f(x) = \frac{1}{\ln(x+1)} \Rightarrow$$

Domain:

Range:

Задача 16: Какая из формул выражает соотношение между значениями x и y в нижеприведенной таблице?

Problem 16: Which of the following formulas expresses the relationship between values of x and y in the table below?

- a) $y = |x - 2|$,
- b) $y = x^2 + 2$,
- c) $y = |x| + 2$,
- d) $y = x + 2$.

x	- 1	0	1	2
y	3	2	3	4

Решение/ Solution:

- a) $y(-1) =$ $y(0) =$ $y(1) =$ $y(2) =$
- b) $y(-1) =$ $y(0) =$ $y(1) =$ $y(2) =$
- c) $y(-1) =$ $y(0) =$ $y(1) =$ $y(2) =$
- d) $y(-1) =$ $y(0) =$ $y(1) =$ $y(2) =$

Задачи 17 - 22: Найти обратные функции:

Problems 17 - 22: Find the inverse functions of the following ones:

- 17) $f(x) = 4x - 1$;
- 18) $f(x) = \frac{3x - 8}{5x + 2}$;
- 19) $f(x) = x^2 - 6x + 8, x > 3$;
- 20) $f(x) = 3^{5x}$;
- 21) $f(x) = \ln \frac{x}{2}$;
- 22) $f(x) = 4 \ln x$.

Подсказка: Функции $f(x)$ и $f^{-1}(x)$ являются взаимно-обратными, если

Hint: The functions $f(x)$ and $f^{-1}(x)$ are the inverse ones of each other if

$$f(f^{-1}(x)) = f^{-1}(f(x)) = x.$$

Решение/ Solution:

17) $f(x) = 4x - 1 \Rightarrow$
 $f^{-1}(x) =$

Проверка / Check-up: $f(f^{-1}(x)) =$

¹ См. [1], Глава 4, стр. 84. | See [1], Chapter 4, p. 84.

$$f^{-1}(f(x)) =$$

$$18) f(x) = \frac{3x-8}{5x+2} \Rightarrow$$

$$f^{-1}(x) =$$

Проверка / Check-up: $f(f^{-1}(x)) =$

$$f^{-1}(f(x)) =$$

$$19) f(x) = x^2 - 6x + 8, (x > 3) \Rightarrow$$

$$f^{-1}(x) =$$

Проверка / Check-up: $f(f^{-1}(x)) =$

$$f^{-1}(f(x)) =$$

$$20) f(x) = 3^{5x} \Rightarrow$$

$$f^{-1}(x) =$$

Проверка / Check-up: $f(f^{-1}(x)) =$

$$f^{-1}(f(x)) =$$

$$21) f(x) = \ln \frac{x}{2} \Rightarrow$$

$$f^{-1}(x) =$$

Проверка / Check-up: $f(f^{-1}(x)) =$

$$f^{-1}(f(x)) =$$

$$22) f(x) = 4 \ln x \Rightarrow$$

$$f^{-1}(x) =$$

Проверка / Check-up: $f(f^{-1}(x)) =$

$$f^{-1}(f(x)) =$$

Задачи 23 - 27: График функции $y = f(x)$ имеет следующий вид:

Problems 23 - 27: The graph of a function $y = f(x)$ is shown in Fig.1:

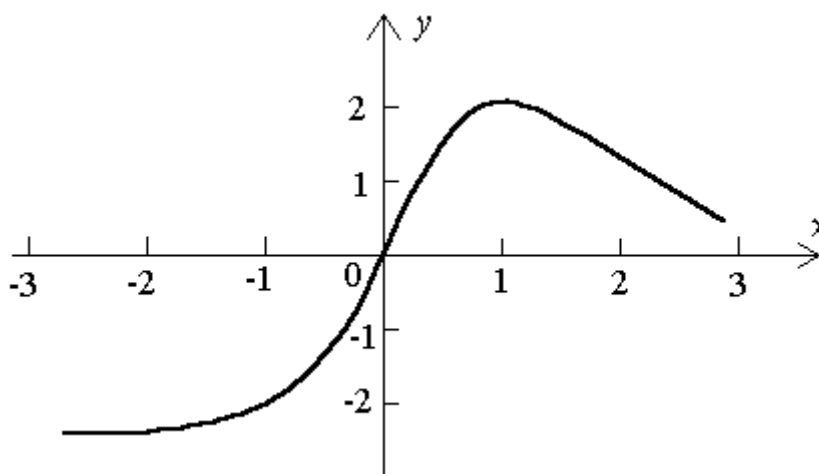


Рис. 1 | Fig. 1

Используя этот график, построить графики следующих функций:

Using this graph plot the graphs of the following functions:

23) $y = f(|x|)$,

24) $y = |f(x)|$,

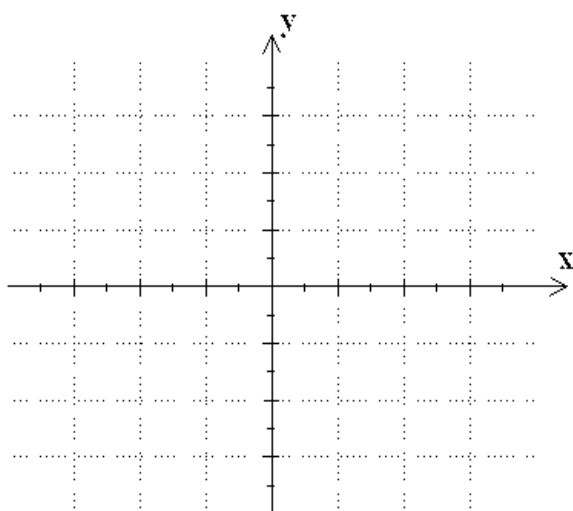
25) $y = f(x - 2)$,

26) $y = f(x + 3)$,

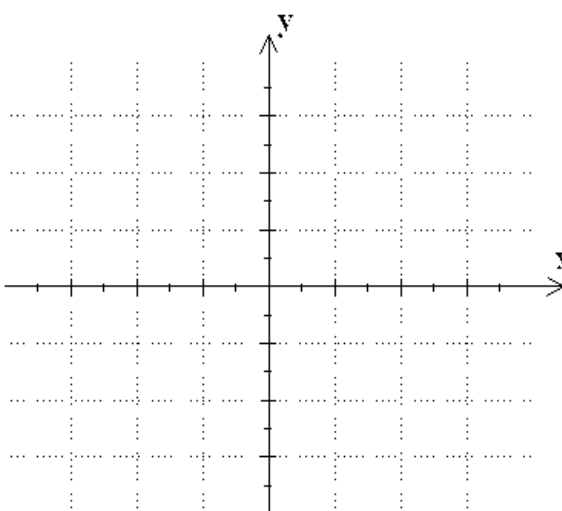
27) $y = f(x) - 1$.

Решение/ Solution:

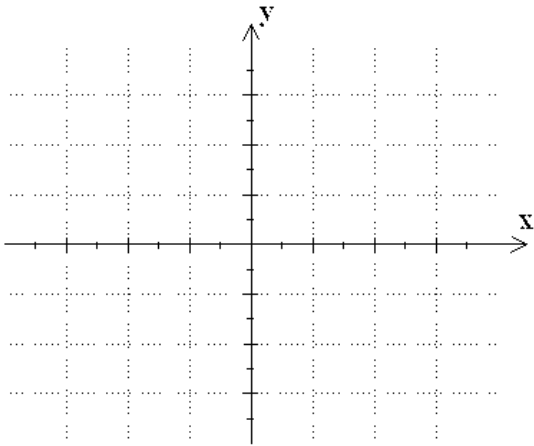
$y = f(|x|)$



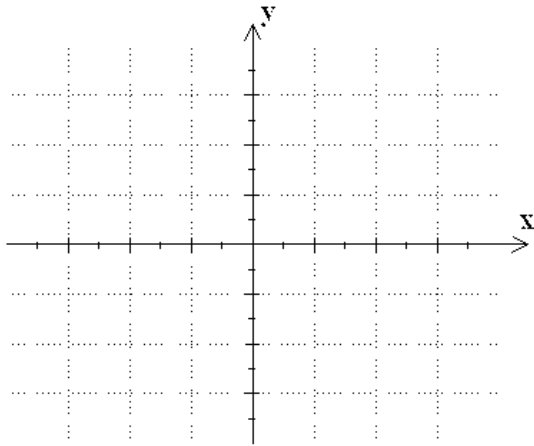
$y = |f(x)|$



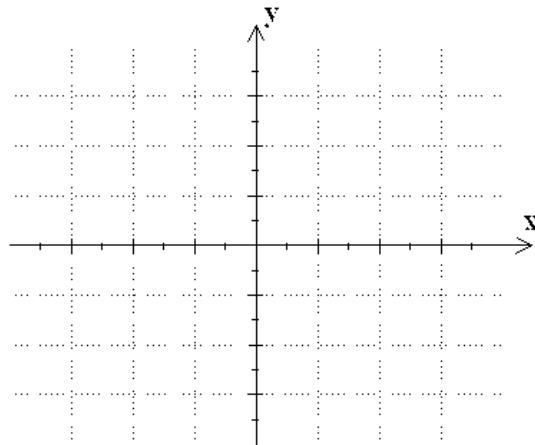
$$y = f(x - 2)$$



$$y = f(x + 3)$$



$$y = f(x) - 1$$



5.2. Графики наиболее важных функций

Graphs of the Most Important Functions

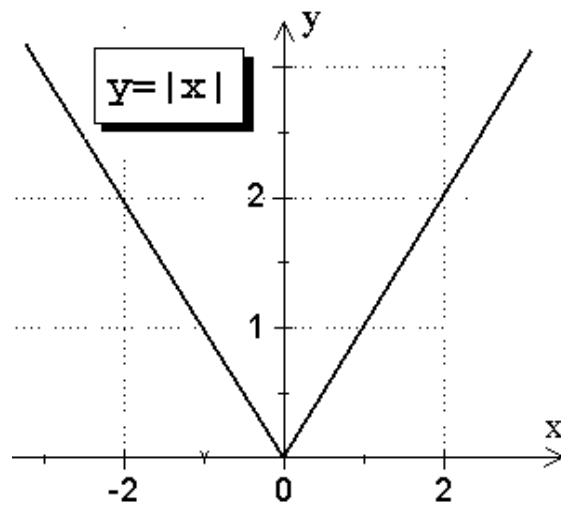


Рис. 2 | Fig. 2

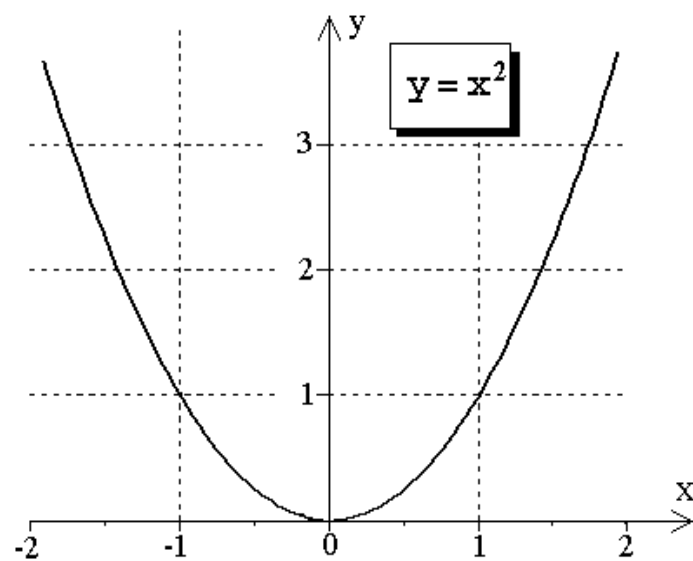


Рис. 3 | Fig. 3

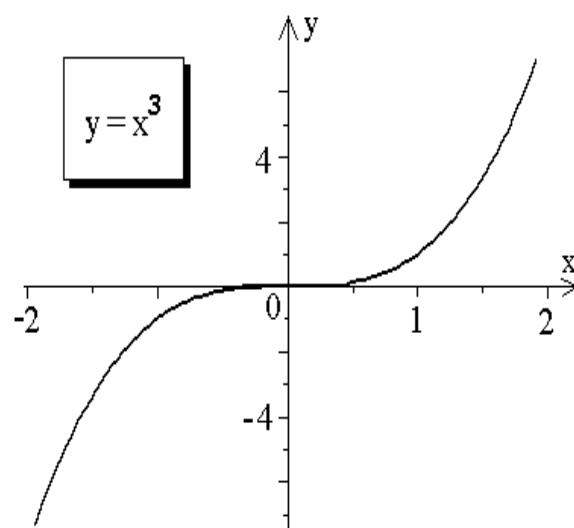


Рис. 4 | Fig. 4

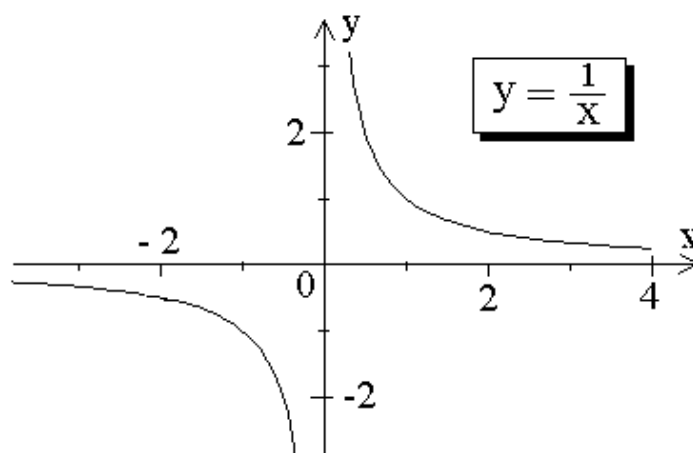


Рис. 5 | Fig. 5

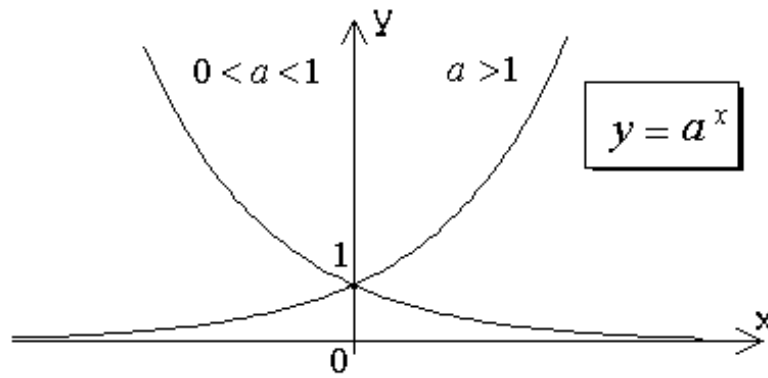


Рис. 6 | Fig. 6

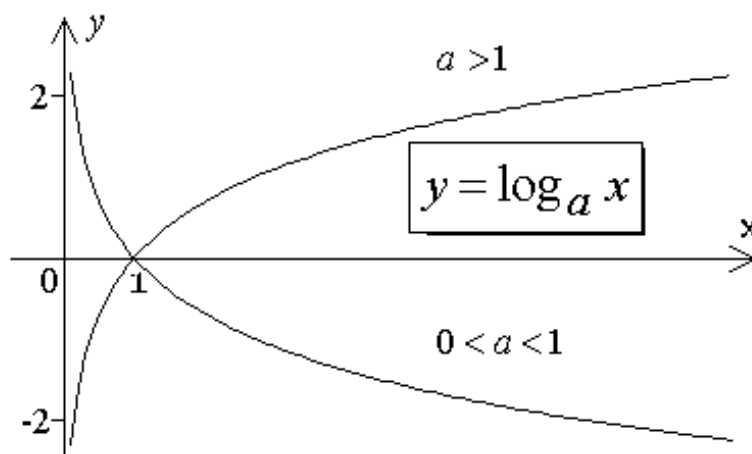


Рис. 7 | Fig. 7

5.2.1. Задачи

Задачи 28 - 37: Изобразите схематически графики функций:

Problems

Problems 28 - 37: Sketch the graphs of the functions:

28) $y = |x + 3| + 1,$

30) $y = \sqrt{-x},$

32) $y = \sqrt[3]{x},$

34) $y = -\frac{1}{x},$

36) $y = \frac{1}{3^{x+1}},$

29) $y = x^2 + 4x - 5,$

31) $y = 4 - x^3,$

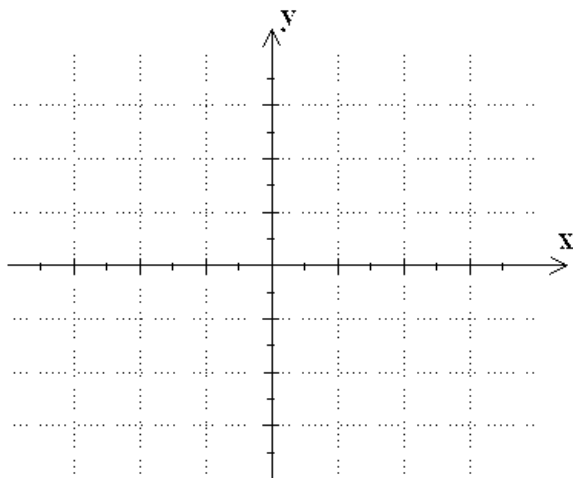
33) $y = \frac{x}{x-2},$

35) $y = 2^{1-x},$

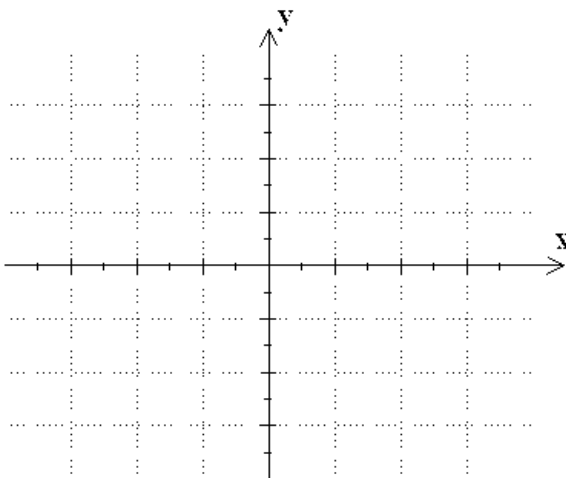
37) $y = \ln(x-4).$

Решение/ Solution:

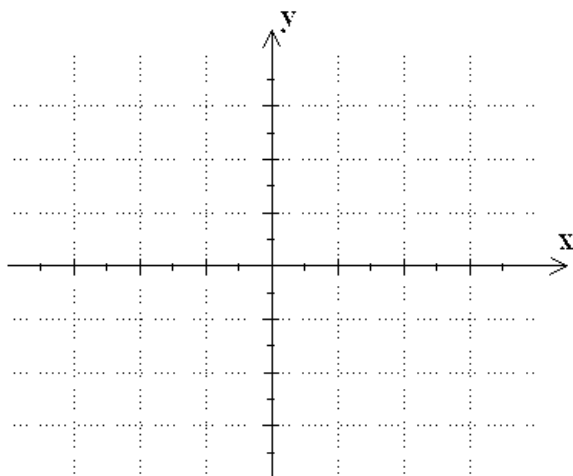
$$y = |x + 3| + 1$$



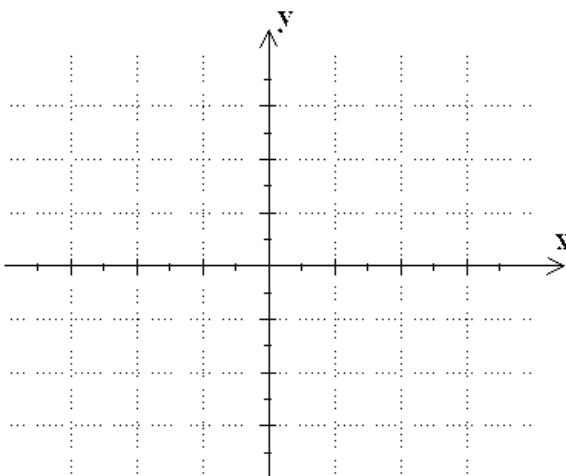
$$y = x^2 + 4x - 5$$



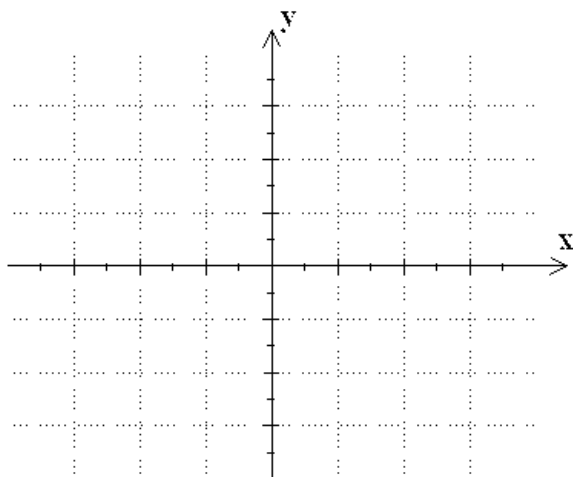
$$y = \sqrt{-x}$$



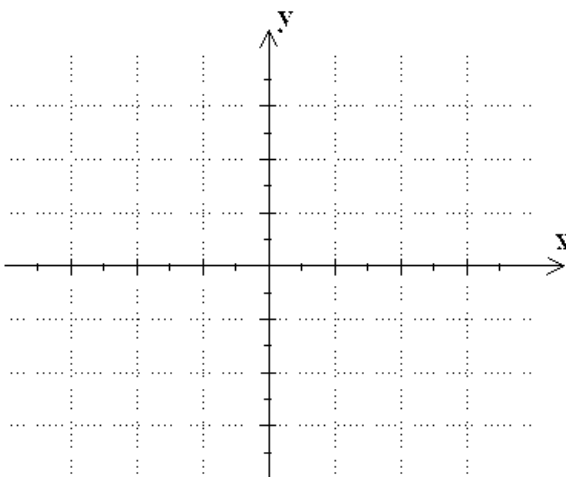
$$y = 4 - x^3$$



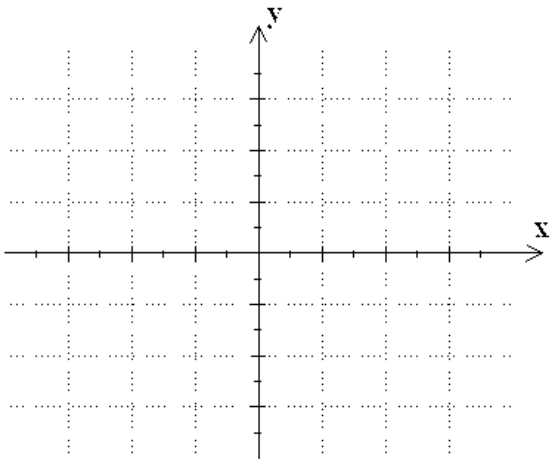
$$y = \sqrt[3]{x}$$



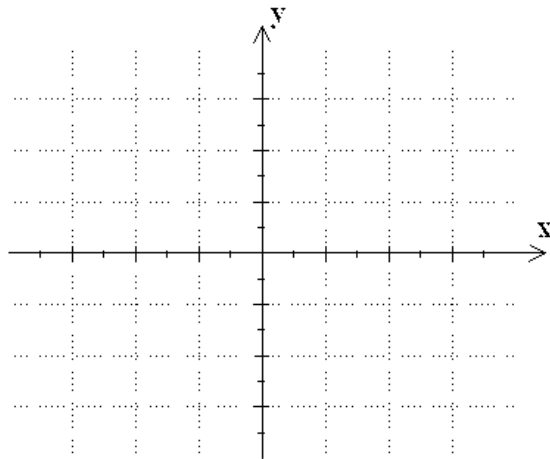
$$y = \frac{x}{x - 2}$$



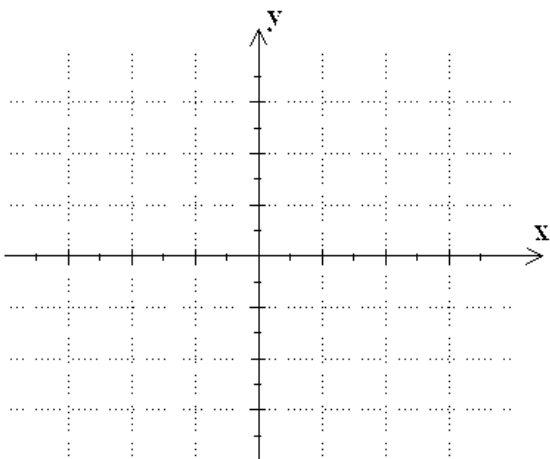
$$y = -\frac{1}{x}$$



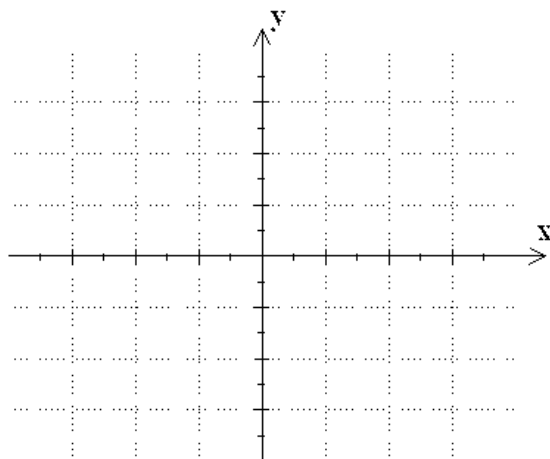
$$y = 2^{1-x}$$



$$y = \frac{1}{3^{x+1}}$$



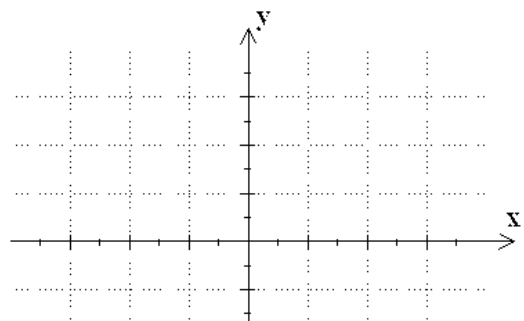
$$y = \ln(x - 4)$$



Задачи 38: Составить уравнение прямой, проходящей через точки $A(-1, 3)$ и $B(1, 1)$. Покажите на графике точки пересечения прямой с координатными осями.

Problems 38: Find the equation of the straight going through the points $A(-1, 3)$ and $B(1, 1)$.

Sketch the graph of this line and show the intercepts.



Задачи 39: Составить уравнение прямой, проходящей через точку $A(2,1)$ под прямым углом к прямой $x + 4y = 5$.

Problems 39: Find the equation of the straight line passing through the point $A(2,1)$ at the right angle to the line $x + 4y = 5$.

Решение/ Solution:

Задачи 40: Составить уравнение прямой, проходящей через точку $A(1,2)$ параллельно прямой $2x - 3y = 6$.

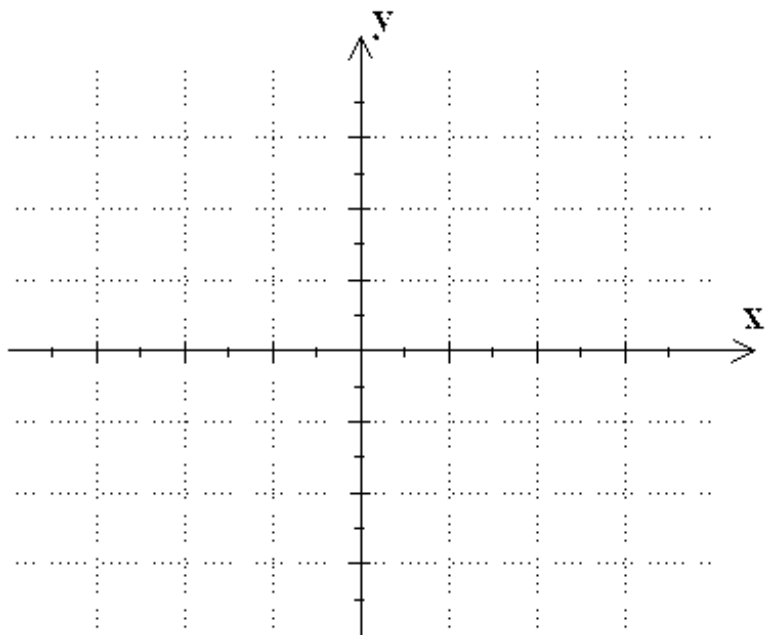
a) **Problems 40:** Find the equation of the line passing through the point $A(1,2)$ and being parallel to the line $2x - 3y = 6$.

Решение/ Solution:

Задача 41: Построить график функции $y = -x^2 + 2x + 3$, указав положение вершины и точек пересечения с координатными осями.

Problem 41: Carefully sketch the graph of $y = -x^2 + 2x + 3$, showing the location of the vertex and intercepts.

Решение/ Solution:



Задача 42: График функции $y = f(x)$ показан на Рис. 1.

Используйте этот график, чтобы вычислить приближенно $f(1)$, $f(-2)$ и $f(2.5)$.

Problem 42: Let $y = f(x)$ be the function whose graph is shown above in Fig. 1

Use the graph to approximate the following values: $f(1)$, $f(-2)$ and $f(2.5)$.

Решение/ Solution:

$$f(1) = \qquad \qquad \qquad f(-2) = \qquad \qquad \qquad f(2.5) =$$

Задача 43: Найти точки пересечения прямых $x - 3y = -5$

и $2x + 7y = 3$.

Problem 43: Find the point of intersection of the lines $x - 3y = -5$ and $2x + 7y = 3$.

Решение/ Solution:

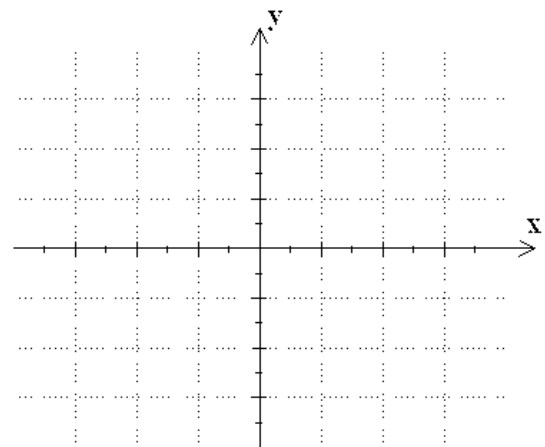
Задача 44: Построить кривую

$$x^2 + y^2 + 2x - 6y + 1 = 0.$$

Problem 44: Draw the curve

$$x^2 + y^2 + 2x - 6y + 1 = 0.$$

Решение/ Solution:



Задачи 45 - 47: Сколько точек пересечения имеют графики следующих пар функций?

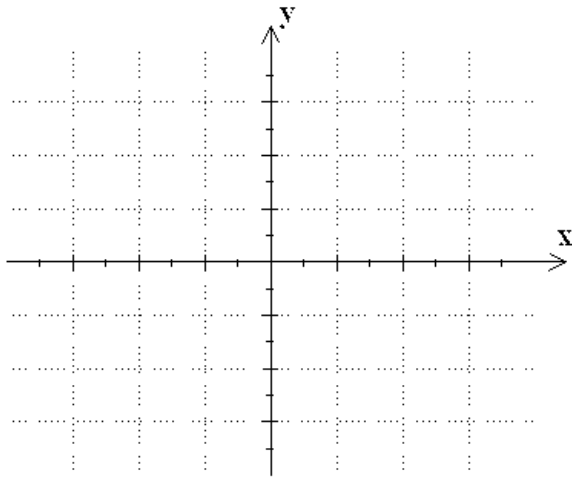
- a) $y = |\log|x+1||$ и $y = 1$;
- b) $y = x^2 - 4|x| + 3$ и $y = \frac{1}{2}$;
- c) $y = 2^{\frac{|x|}{x}}$ и $y = |x+1|$.

Problems 45 - 47: How many points of intersection have the graphs of the following couples of functions?

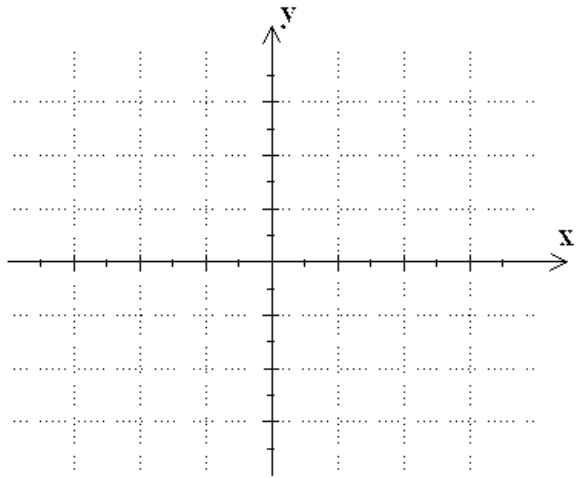
- a) $y = |\log|x+1||$ and $y = 1$;
- b) $y = x^2 - 4|x| + 3$ and $y = \frac{1}{2}$;
- c) $y = 2^{\frac{|x|}{x}}$ and $y = |x+1|$.

Решение/ Solution:

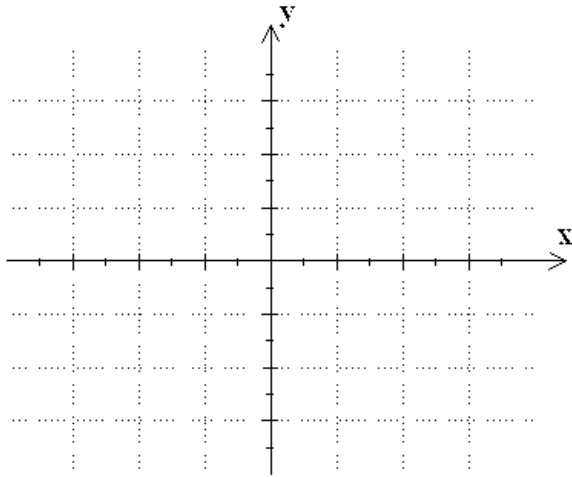
$$y = \log x, \quad y = \log |x + 1|$$



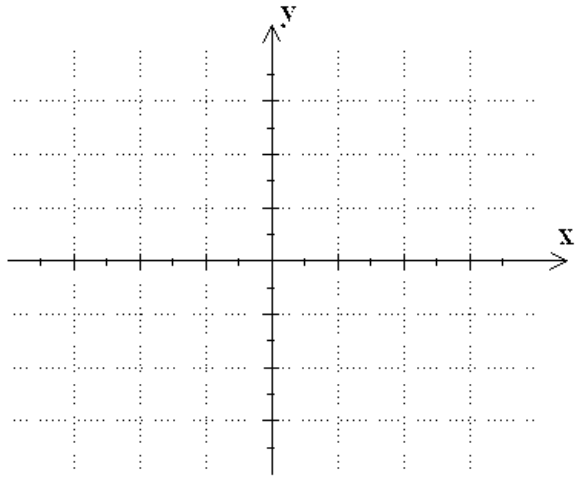
$$y = |\log |x + 1||, \quad y = 1$$



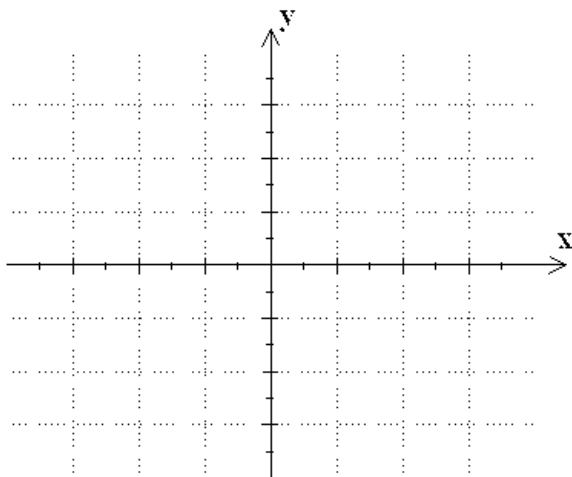
$$y = x^2 - 4x + 3, \quad y = x^2 + 4x + 3$$



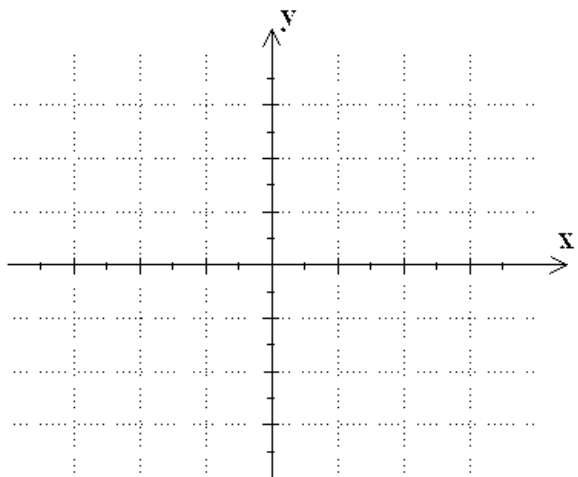
$$y = x^2 - 4|x| + 3, \quad y = 1/2$$



$$y = x + 1, \quad y = 2$$



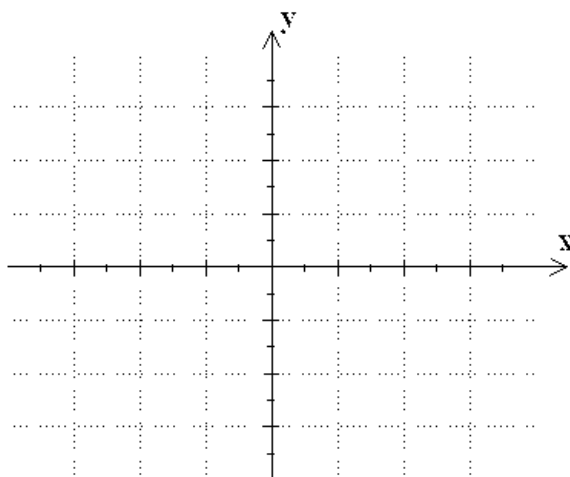
$$y = |x + 1|, \quad y = 2^{|x|/x}$$



Задача 48: В плоскости xOy изобразите область, описываемую неравенствами $3x - y - 7 < 0$ и $x + 5y + 3 \geq 0$.

Problem 48: Shade the region in the xy -plane which is described by the inequalities $3x - y - 7 < 0$ and $x + 5y + 3 \geq 0$.

Решение/ Solution:



Задача 49: Найдите соответствие между функциями и их графиками.

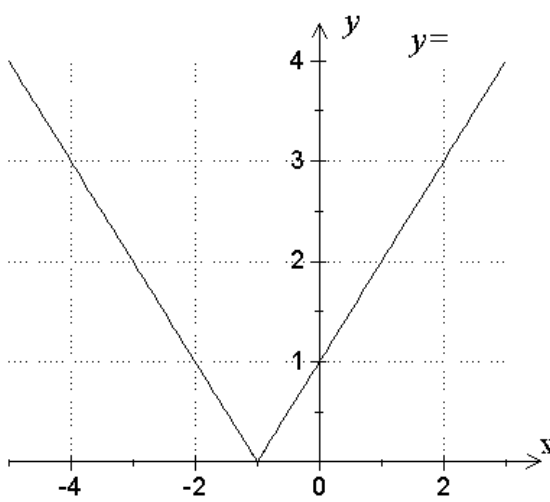
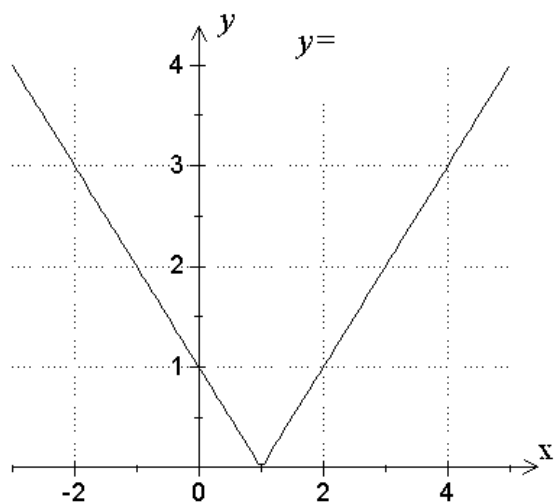
Problem 49: Match the following functions with their graphs.

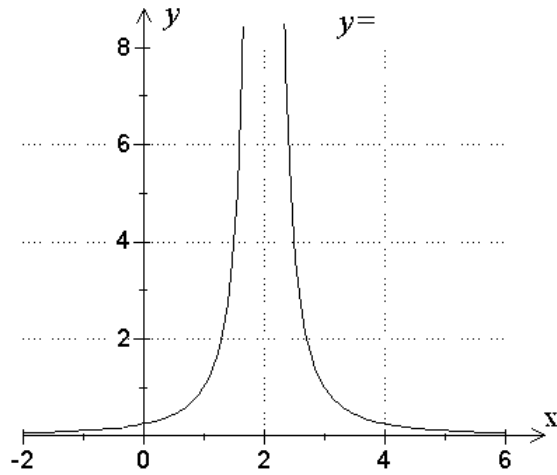
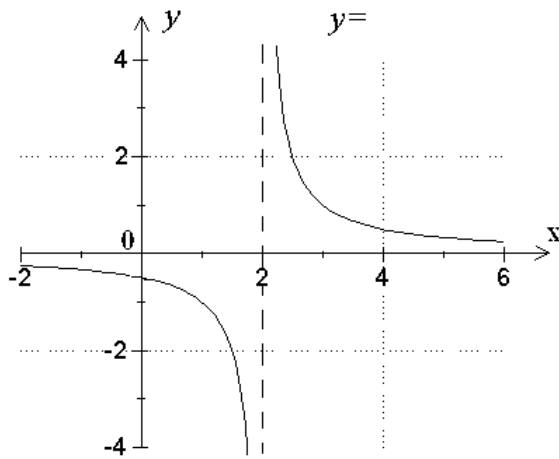
a) $y = |x + 1|$,

b) $y = \frac{1}{(x - 2)}$,

c) $y = \frac{1}{(x - 2)^2}$,

d) $y = |x - 1|$.





Задача 50: Найти радиус и координаты центра окружности

$$x^2 + y^2 + 8x - 4y - 5 = 0.$$

Problem 50: Find the radius and center of the circle

$$x^2 + y^2 + 8x - 4y - 5 = 0.$$

Решение/ Solution:

Задача 51: График параболы пересекает ось Ox в точках -1 и 3 . Определить вид квадратичной функции, если область ее значений являются все вещественные числа, не превышающие 4 .

Problem 51: The graph of a parabola has x -intercepts, which are equal to (-1) and 3 . Determine an expression for the corresponding quadratic function if its range consists of all numbers less than or equal to 4 .

Решение/ Solution:

6. Дискретная алгебра

6.1. ¹Арифметическая и геометрическая прогрессии: основные формулы

Discrete Algebra

Arithmetic Progressions (1)-(3) and Geometric Progression (4)-(7): Basic Formulas

$$a_{n+1} = a_n + d, \quad (1)$$

$$a_n = a_1 + (n-1)d, \quad (2)$$

$$S_n = \sum_{k=1}^n a_k = \sum_{k=1}^n (a_1 + (k-1)d) = \frac{(a_1 + a_n)n}{2}, \quad (3)$$

$$a_{n+1} = a_n q, \quad (4)$$

$$a_n = a_1 q^{n-1}, \quad (5)$$

$$S_n = \sum_{k=1}^n a_k = \sum_{k=1}^n a_1 q^{k-1} = \frac{a_1(1-q^n)}{1-q}, \quad (6)$$

$$S_\infty = \sum_{k=1}^{\infty} a_k = \frac{a_1}{1-q}. \quad (7)$$

6.2. Задачи

Задача 1: Найти первый член a_1 арифметической прогрессии, если $a_6 = 5$ и $a_8 = 11$.

Решение/ Solution:

Задача 2: Найти разность d арифметической прогрессии, если $a_3 = 2$ и $a_7 = -18$.

Решение/ Solution:

Задача 3: Найти второй a_2 и десятый a_{10} члены арифметической прогрессии, если $a_5 = 32$ и $d = 5$.

Problems

Problem 1: Find the first term a_1 of the arithmetic progression, if $a_6 = 5$ and $a_8 = 11$.

Problem 2: Find the difference d of the arithmetic progression, if $a_3 = 2$ and $a_7 = -18$.

Problem 3: Find the second term a_2 and the tenth term a_{10} of the arithmetic progression, if $a_5 = 32$ and $d = 5$.

¹ См. [4], Глава 5, стр. 102. | See [4], Chapter 5, p. 102.

Решение/ Solution:

Задача 4: Найти сумму S_{20} первых 20 членов арифметической прогрессии, если $a_4 = 1$ и $a_9 = 16$.

Решение/ Solution:

Problem 4: Find the sum S_{20} of the first 20 terms of the arithmetic progression, if $a_4 = 1$ and $a_9 = 16$.

Задача 5: Найти знаменатель q геометрической прогрессии, если $a_3 = 81$ и $a_6 = 3$.

Решение/ Solution:

Problem 5: Find the common ratio q of the geometric progression, if $a_3 = 81$ and $a_6 = 3$.

Задача 6: Найти шестой член a_6 геометрической прогрессии, если $a_1 = 256$ и $a_3 = 64$.

Решение/ Solution:

Problem 6: Find the sixth term a_6 of the geometric progression, if $a_1 = 256$ and $a_3 = 64$.

Задача 7: Вычислить сумму S_{15} первых 15 членов геометрической прогрессии и найти ее второй член a_2 , если сумма первых трех членов $S_3 = 15$, а знаменатель прогрессии $q = -2$.

Решение/ Solution:

Problem 7: Find the sum S_{15} of the first 15 terms of the geometric progression and find its second term a_2 , if the sum S_3 of the first three terms equals 15 and the common ratio q equals -2 .

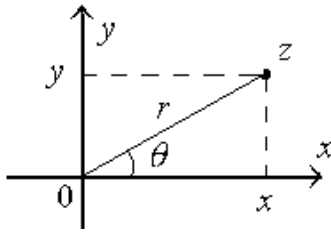
Задача 8: Вычислить сумму бесконечного числа членов убывающей геометрической прогрессии, если $a_3 = 125$, а знаменатель прогрессии $q = 1/5$.

Решение/ Solution:

Problem 8: Find the sum of an infinite number of terms of decreasing geometric progression, if $a_3 = 125$ and the common ratio is $q = 1/5$.

7. 2Комплексные числа
7.1. Основные соотношения

Complex Numbers
Basic Relationships



$$z = x + iy,$$

$$z^* = x - iy,$$

$$x = r \cos \theta, \quad y = r \sin \theta,$$

$$|z| = r = \sqrt{x^2 + y^2}, \quad \tan \theta = \frac{y}{x}$$

$$z = r(\cos \theta + i \sin \theta),$$

$$e^{i\theta} = \cos \theta + i \sin \theta,$$

$$z = r e^{i\theta},$$

$$z^n = r^n e^{in\theta},$$

$$\sqrt[n]{z} = \sqrt[n]{r} e^{i \frac{\theta + 2\pi m}{n}}, \quad (m = 0, 1, \dots, n-1),$$

$$\frac{1}{z} = \frac{z^*}{|z|^2}.$$

7.2. Задачи

Problems

Задача 1: Пусть z_1 и z_2 - комплексные числа. Найти сумму $z_1 + z_2$, разность $z_1 - z_2$, произведение $z_1 z_2$ и частное z_1/z_2 , если $z_1 = 3 - 4i$ и $z_2 = 2 + i$.

Problem 1: Let z_1 and z_2 be complex numbers. Find the sum $z_1 + z_2$, difference $z_1 - z_2$, product $z_1 z_2$ and quotient z_1/z_2 , if $z_1 = 3 - 4i$ and $z_2 = 2 + i$.

Решение/ Solution:

$$z_1 + z_2 =$$

$$z_1 - z_2 =$$

$$z_1 z_2 =$$

$$z_1/z_2 =$$

Задача 2: Извлечь квадратный корень из числа $z = 1 + i\sqrt{3}$.

Problem 2: Find the square roots of the complex number $z = 1 + i\sqrt{3}$.

Решение/ Solution: $r =$

$\theta =$

$$(\sqrt{z})_1 =$$

$$(\sqrt{z})_2 =$$

² См. [4], Глава 6, стр. 109. | See [4], Chapter 6, p. 109.

Задача 3: Найти z^{2001} , если $z = \frac{\sqrt{2}}{2} - i\frac{\sqrt{2}}{2}$.

Решение/ Solution: $|z| =$
 $z^{2001} =$

Задачи 4 - 7:

Решите приведенные ниже уравнения: и изобразите решения на окружности в комплексной плоскости:

4. $z^2 + 1 = 0,$

6. $z^4 + 1 = 0,$

Решение/ Solution:

4. $z^2 + 1 = 0 \Rightarrow z =$

5. $z^3 - 1 = 0 \Rightarrow z =$

6. $z^4 + 1 = 0 \Rightarrow z =$

7. $z^8 - 1 = 0 \Rightarrow z =$

Problem 3: Find z^{2001} if $z = \frac{\sqrt{2}}{2} - i\frac{\sqrt{2}}{2}$.

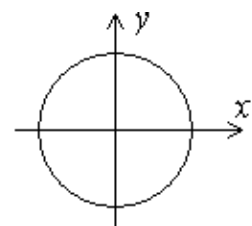
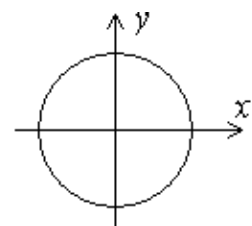
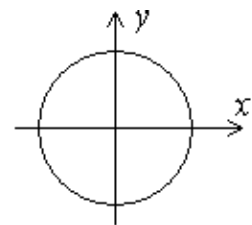
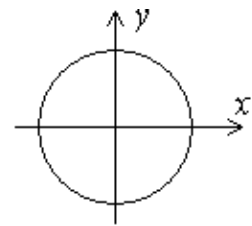
$\arg z =$

Problem 4 - 7:

Solve the below equations and show the roots on the circle in the complex plane.

5. $z^3 - 1 = 0,$

7. $z^8 - 1 = 0.$



7.3. Тригонометрические приложения формулы Эйлера

Trigonometric Applications of the Euler Formula

$$e^{i\theta} = \cos \theta + i \sin \theta,$$
$$\sin \theta = \frac{1}{2i}(e^{i\theta} - e^{-i\theta}) = \operatorname{Im} e^{i\theta},$$
$$\cos \theta = \frac{1}{2}(e^{i\theta} + e^{-i\theta}) = \operatorname{Re} e^{i\theta}.$$

Задачи 8 - 11: Доказать следующие формулы для синусов и косинусов суммы и разности углов:

Problems 8 - 11: Prove the following addition and subtraction formulas:

$$\begin{aligned}\sin(\alpha + \beta) &= \sin \alpha \cos \beta + \sin \beta \cos \alpha, \\ \cos(\alpha + \beta) &= \cos \alpha \cos \beta - \sin \alpha \sin \beta \\ \sin(\alpha - \beta) &= \sin \alpha \cos \beta - \sin \beta \cos \alpha, \\ \cos(\alpha - \beta) &= \cos \alpha \cos \beta + \sin \alpha \sin \beta.\end{aligned}$$

Решение/ Solution:

8) - 9) $e^{i(\alpha+\beta)} = \cos(\alpha + \beta) + i \sin(\alpha + \beta),$
 $e^{i(\alpha+\beta)} = e^{i\alpha} e^{i\beta} =$

10) - 11) $e^{i(\alpha-\beta)} = \cos(\alpha - \beta) + i \sin(\alpha - \beta),$
 $e^{i(\alpha-\beta)} = e^{i\alpha} e^{-i\beta} =$

Задача 12: Доказать следующие тождества: для синусов и косинусов двойных углов:

Problem 12: Prove the following double-angle identities:

$$\begin{aligned}\sin 2\alpha &= 2 \sin \alpha \cos \alpha, \\ \cos 2\alpha &= \cos^2 \alpha - \sin^2 \alpha.\end{aligned}$$

Решение/ Solution:

$$\begin{aligned}(e^{i\alpha})^2 &= e^{i2\alpha} = \\ (e^{i\alpha})^2 &= (\cos \alpha + i \sin \alpha)^2 =\end{aligned}$$

8. ³Пределы функций

8.1. Наиболее важные формулы

Limits of Functions

The Most Important Formulas

$$\lim_{x \rightarrow 0} \frac{\sin x}{x} = 1. \quad (1)$$

$$\lim_{x \rightarrow 0} \frac{e^x - 1}{x} = 1. \quad (2)$$

$$\lim_{x \rightarrow 0} \frac{\ln(1+x)}{x} = 1. \quad (3)$$

$$\lim_{x \rightarrow 0} (1+x)^{1/x} = e. \quad (4)$$

8.2. Задачи

Задачи 1 - 10: Вычислить следующие пределы:

Problems

Problems 1 - 10: Evaluate the following limits:

1) $\lim_{x \rightarrow 0} \frac{\sin 4x}{8x},$

2) $\lim_{x \rightarrow 0} \frac{\sin 5x^2}{3x^2},$

3) $\lim_{x \rightarrow 0} \frac{\arcsin 2x}{6x},$

4) $\lim_{x \rightarrow 0} \frac{1 - \cos 2x}{x^2},$

5) $\lim_{x \rightarrow 0} \frac{\tan 7x}{\sin 3x},$

6) $\lim_{x \rightarrow 0} \frac{e^{3x} - 1}{x},$

7) $\lim_{x \rightarrow 1} \frac{x^2 - 1}{x^2 + 4x - 5},$

8) $\lim_{x \rightarrow 0} \frac{e^{3x} - 1}{x},$

9) $\lim_{x \rightarrow \infty} \frac{6x^2 + 5x - 2}{3x^2 - 4x + 100},$

10) $\lim_{x \rightarrow 0} \frac{\ln(1 - 3x^2)}{4x^2}.$

Решение/ Solution:

1) $\lim_{x \rightarrow 0} \frac{\sin 4x}{8x} =$

2) $\lim_{x \rightarrow 0} \frac{\sin 5x^2}{3x^2} =$

³ См. [4], Глава 7, стр. 119. | See [4], Chapter 7, p. 119.

$$3) \lim_{x \rightarrow 0} \frac{\arcsin 2x}{6x} =$$

$$4) \lim_{x \rightarrow 0} \frac{1 - \cos 2x}{x^2} =$$

$$5) \lim_{x \rightarrow 0} \frac{\tan 7x}{\sin 3x} =$$

$$6) \lim_{x \rightarrow 0} \frac{e^{3x} - 1}{x} =$$

$$7) \lim_{x \rightarrow 1} \frac{x^2 - 1}{x^2 + 4x - 5} =$$

$$8) \lim_{x \rightarrow 0} \frac{e^{3x} - 1}{x} =$$

$$9) \lim_{x \rightarrow \infty} \frac{6x^2 + 5x - 2}{3x^2 - 4x + 100} =$$

$$10) \lim_{x \rightarrow 0} \frac{\ln(1 - 3x^2)}{4x^2} =$$

9. Производные функций

9.1. Таблица производных

Derivatives of Functions

A Common Table of Derivatives

$(x^n)' = nx^{n-1}$	$(a^x)' = a^x \ln a$
$(e^x)' = e^x$	$(\ln x)' = \frac{1}{x}$
$(\sin x)' = \cos x$	$(\cos x)' = -\sin x$
$(\operatorname{tg} x)' = (\tan x)' = \frac{1}{\cos^2 x}$	$(\operatorname{ctg} x)' = (\cot x)' = -\frac{1}{\sin^2 x}$
$(\arcsin x)' = \frac{1}{\sqrt{1-x^2}}$	$(\arccos x)' = -\frac{1}{\sqrt{1-x^2}}$
$(\operatorname{arctg} x)' = (\arctan x)' = \frac{1}{1+x^2}$	$(\operatorname{arcctg} x)' = (\cot^{-1} x)' = -\frac{1}{1+x^2}$

9.2. Задачи

Задача 1: Пусть $f(x) = x^3 - 5x + 4$. Найти среднюю скорость изменения $f(x)$ на интервале $[2; 3]$.

Решение/ Solution:

Задачи 2 - 11: Найти производные следующих функций:

2) $f(x) = x^3,$

4) $f(x) = \frac{5}{x} - 4\sqrt[3]{x} + 2x^8,$

6) $f(x) = \ln(x + 2),$

8) $f(x) = \ln\left(\frac{x\sqrt{x-3}}{x+2}\right),$

10) $f(x) = \frac{x \sin x - \cos x}{x^2},$

Problems

Problem 1: Let $f(x) = x^3 - 5x + 4$. Find the average rate of change of $f(x)$ over the interval $[2, 3]$.

Problems 2 - 11: Find the derivatives of the functions:

3) $f(x) = \sqrt{x},$

5) $f(x) = \sin^2 2x,$

7) $f(x) = \ln(x \cos x),$

9) $f(x) = 3 \tan x - 3 \cot x,$

11) $f(x) = \ln e^x + \sin^2 x + \cos^2 x.$

⁴ См. [4], Глава 8, стр. 123. | See [4], Chapter 8, p. 123.

Решение/ Solution:

2) $(x^3)' =$

3) $(\sqrt{x})' =$

4) $(\frac{5}{x} - 4\sqrt[3]{x} + 2x^8)' =$

5) $(\sin^2 2x)' =$

6) $(\ln(x + 2))' =$

7) $(\ln(x \cos x))' =$

8) $(\ln(\frac{x\sqrt{x-3}}{x+2}))' =$

9) $(3 \tan x - 3 \cot x)' =$

10) $(\frac{x \sin x - \cos x}{x^2})' =$

11) $(\ln e^x + \sin^2 x + \cos^2 x)' =$

9.3. Исследование функций

Чтобы исследовать функцию $f(x)$, нужно:

- Найти область ее определения.
- Установить обладает ли функция свойствами симметрии.
- Найти критические точки, т.е. точки, в которых производная $f'(x)$ обращается в нуль или не существует.
- Проверить имеются ли среди критических точек точки экстремума; если таковые имеются, то вычислить максимумы и минимумы функции.
- Найти интервалы монотонного возрастания и убывания функции.
- Найти все точки, в которых вторая производная $f''(x)$ обращается в нуль или же не существует. Проверить какие из найденных точек являются точками перегиба.
- Найти интервалы выпуклости и вогнутости кривой $y = f(x)$.
- Найти асимптоты функции.

Задача 12: Найти интервалы монотонности функции

$$f(x) = 3x^4 + 16x^3 - 6x^2 - 48x + 1.$$

Решение/ Solution:

$$(f(x))' = (3x^4 + 16x^3 - 6x^2 - 48x + 1)' =$$

Investigation of Functions

In order to investigate a function $f(x)$ you can follow the algorithm below:

- Find the domain of the function.
- Determine whether the function has a symmetry.
- Determine critical points by solving the equation $f'(x) = 0$ and finding the points in which the derivative $f'(x)$ does not exist.
- Check each critical point whether it is an extreme point or not. Calculate the value of the function in each extreme point.
- Find the intervals of monotonicity of the function.
- Determine the points of inflection, that is, find the solution of the equation $f''(x) = 0$. Also it is necessary to find the points, where the second derivative $f''(x)$ does not exist. Each of these points must be checked whether it is a point of inflection or not.
- Find the intervals where the curve $y = f(x)$ is concave, and where it is convex.
- Find the asymptotes for the function.

Problem 12: Find the intervals of monotonicity of the function

Задача 13: Какие из нижеприведенных функций являются четными, какие – нечетными и какие из них не обладают свойствами четности?

Problem 13: Which of the following functions are even, odd, neither even nor odd?

$$\begin{array}{ccccccc}
 |x|, & x^2, & x^3, & x^4, & x^5, & \sqrt[3]{x}, & (x+1), \\
 \sin x, & \cos x, & \sin^2 x, & \sin^{-1} x, & \tan^7 x, & x \cos x, & \\
 \ln x, & |\ln x|, & \ln |x|, & \ln(x^2 + 1), & \ln(x+1), & & \\
 e^{-x^2}, & e^x, & & e^{-x}. & & &
 \end{array}$$

Решение/ Solution:

Четные функции / Even functions:

Нечетные функции / Odd functions:

Не являются ни четными, ни нечетными / Neither even nor odd functions:

Задачи 14 - 19: Разбить области определения следующих функций на конечное число интервалов возрастания и убывания функции.

Problems 14 - 19: Divide the domains of the following functions into a finite number of intervals for which the functions are strictly monotone. Indicate the intervals where the functions are increasing and where they are decreasing.

14) $f(x) = x^2(x-3),$

15) $f(x) = (x-3)\sqrt{x},$

16) $f(x) = x \ln x,$

17) $f(x) = e^{x^2-4x},$

18) $f(x) = \frac{e^x}{x},$

19) $f(x) = \frac{x}{x+4}.$

Решение/ Solution:

14) $(x^2(x-3))' =$

Следовательно / Therefore:

15) $((x-3)\sqrt{x})' =$

Следовательно / Therefore:

16) $(x \ln x)' =$

Следовательно / Therefore:

17) $(e^{x^2-4x})' =$

Следовательно / Therefore:

18) $(\frac{e^x}{x})' =$

Следовательно / Therefore:

19) $(\frac{x}{x+4})' =$

Следовательно / Therefore:

Задачи 20 - 22: Найти локальные экстремумы функции $f(x)$ и классифицировать их по признакам максимума или минимума:

Problems 20 - 22: Find all local extrema of $f(x)$ and determine which of them are local minima and which are local maxima:

20) $f(x) = x^2 - 6x + 7,$

21) $f(x) = \frac{x^2 - 2x + 2}{x - 1},$

22) $f(x) = x - \ln(1 + x)$.

Решение/ Solution:

20) $(x^2 - 6x + 7)' =$

21) $(\frac{x^2 - 2x + 2}{x - 1})' =$

22) $(x - \ln(1 + x))' =$

Задачи 23 - 26: Найдите асимптоты следующих функций. Изобразите схематически графики функций и их асимптоты, не обращая внимания на экстремумы, вогнутость и т.д.

Problems 23 - 26: Find the asymptotes for the following functions. Sketch the graphs of these functions and indicate their asymptotes. No need to determine extrema, concavity, and so on.

23) $f(x) = \frac{x^2}{x^2 - 9}$,

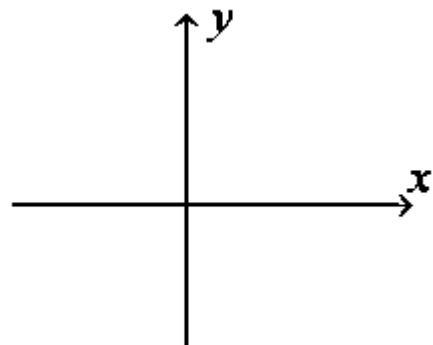
24) $f(x) = \frac{x^2 + 4}{\sqrt{x^2 - 4}}$,

25) $f(x) = \frac{1}{x^2 + 9}$,

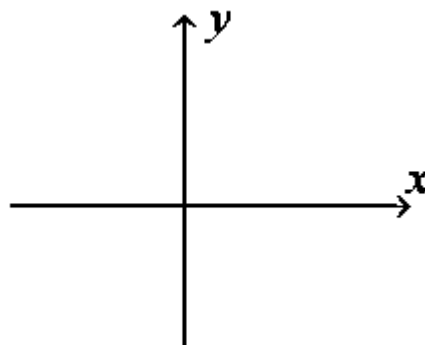
26) $f(x) = e^{2x}$.

Решение/ Solution:

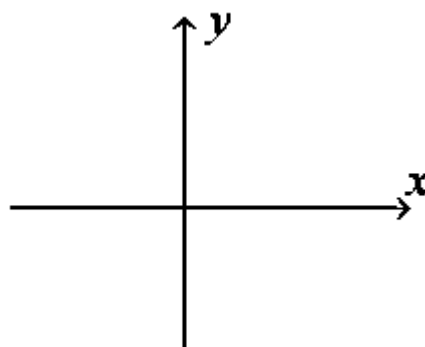
23) $f(x) = \frac{x^2}{x^2 - 9} \Rightarrow$



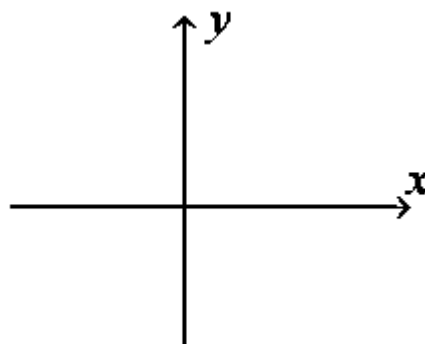
$$24) f(x) = \frac{x^2 + 4}{\sqrt{x^2 - 4}} \Rightarrow$$



$$25) f(x) = \frac{1}{x^2 + 9} \Rightarrow$$



$$26) f(x) = e^{2x} \Rightarrow$$



Задачи 27 - 30: Построить графики функций, предварительно исследовав:

- Область определения.
- Симметрию.
- Интервалы возрастания и убывания.
- Промежутки вогнутости и выпуклости.

For **Problems 27 - 30**, sketch the graphs of the functions. Extract as much information about the function as you can:

- Domain.
- Symmetry.
- Intervals of increasing, decreasing, concaving, convexity.
- Extreme points and points of

- Точки экстремума и перегиба.
- Асимптоты.

Масштабы на координатных осях Ox и Oy можно выбирать независимо, сообразуясь с соображениями наглядности.

Не поленитесь найти точки пересечения графика функции с координатными осями.

Промежуточные результаты удобно представить в виде таблиц. Один из примеров таблицы приведен ниже – для функции, определенной на интервале $[a, \infty)$ и имеющей критические точки x_1 и x_2 .

inflection.

- Are there asymptotes? How does the function approach them?

Do not decide on a scale for axes until you have come to a picture of the function. It is not necessary to use the same scales for the x – and y – axes.

Try to find the x - and y -intercepts.

It is convenient to place the calculated results in the tables.

An example of the table is given below. The function $y = f(x)$ is assumed to be defined in the interval $[a, \infty)$; x_1 and x_2 are some critical points.

x	a	$[a, x_1)$	x_1	(x_1, x_2)	x_2	$(x_2, +\infty)$
y	9	↘	2	↗	$\pm\infty$	↗
y'	-	-	0	+	does not exist	+
вывод / conclusion		$f(x)$ убывает / is decreasing	min	$f(x)$ возрастает / is increasing	разрыв / discontinuity	$f(x)$ возрастает / is increasing

$$27) f(x) = x^2 + \frac{2}{x},$$

$$28) f(x) = \frac{x}{x^2 + 4},$$

$$29) f(x) = (2 + x^2)e^{-x^2},$$

$$30) f(x) = x \ln x^2.$$

Решение/ Solution:

$$27) f(x) = x^2 + \frac{2}{x}. \text{ Domain:}$$

Symmetry:


Critical points:

$$28) f(x) = \frac{x}{x^2 + 4}$$

Domain:

Symmetry:

Critical points:




$$29) f(x) = (2 + x^2)e^{-x^2}$$

Domain:

Symmetry:

Critical points:




$$30) f(x) = x \ln x^2$$

Domain:

Symmetry:

Critical points:



10. ⁵Интегралы
19.1. Таблица интегралов

Integrals
A Table of Common Integrals

$\int x^n dx = \frac{x^{n+1}}{n+1} + C, \quad (n \neq -1)$	$\int \frac{dx}{x} = \ln x + C$
$\int a^x dx = \frac{a^x}{\ln a} + C$	$\int e^x dx = e^x + C$
$\int \sin x dx = -\cos x + C$	$\int \cos x dx = \sin x + C$
$\int \frac{dx}{\cos^2 x} = \tan x + C = \operatorname{tg} x + C$	$\int \frac{dx}{\sin^2 x} = -\cot x + C = -\operatorname{ctg} x + C$
$\int \frac{dx}{\sqrt{1-x^2}} = \arcsin x + C$	$\int \frac{dx}{1+x^2} = \arctan x + C = \operatorname{arctg} x + C$

10.2. Задачи

Задачи 1 - 8: Вычислите неопределенные интегралы и проверьте результаты с помощью дифференцирования.

Problems

Problems 1 - 8: Evaluate the following indefinite integrals. Check up the results by differentiating.

1) $\int (4x^3 - 6x^2 + x + 3) dx,$	2) $\int \sqrt{x} dx,$
3) $\int \frac{dx}{2x+5},$	4) $\int \cos(1-4x) dx,$
5) $\int \cos^2 x dx,$	6) $\int \sin 4x \cos 4x dx,$
7) $\int \cos^3 x dx,$	8) $\int \frac{dx}{\sqrt{x+1}}.$

Решение/ Solution:

1) $\int (4x^3 - 6x^2 + x + 3) dx =$

Check-up:

⁵ См. [4], Глава 9, стр. 129. | See [4], Chapter 9, p. 129.

$$2) \int \sqrt{x} dx =$$

Check-up:

$$3) \int \frac{dx}{2x+5} =$$

Check-up:

$$4) \int \cos(1-4x) dx =$$

Check-up:

$$5) \int \cos^2 x dx =$$

Check-up:

$$6) \int \sin 3x \cos 3x dx =$$

Check-up:

$$7) \int \sin^3 x dx =$$

Check-up:

$$8) \int \frac{dx}{\sqrt{x+3}} =$$

Check-up:

Задачи 9 - 10: Вычислить точно следующие интегралы, если они существуют:

$$9) \int_1^e \frac{\ln^2 x}{x} dx,$$

Problems 9 - 10: Evaluate the following integrals exactly, if they exist:

$$10) \int_0^1 (3x-4)^7 dx.$$

Решение/ Solution:

$$9) \int_1^e \frac{\ln^2 x}{x} dx =$$

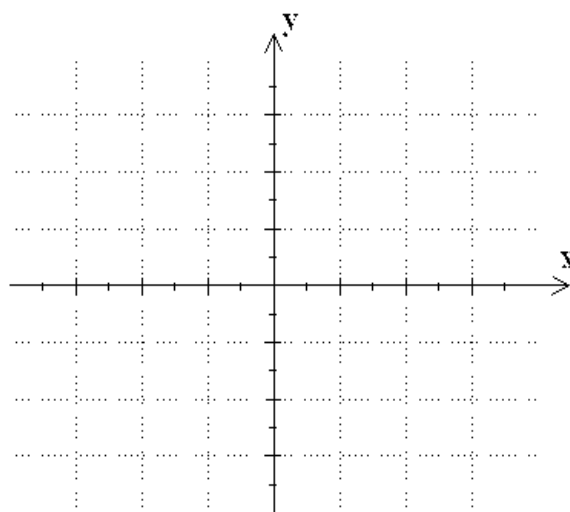
$$10) \int_0^1 (3x-4)^7 dx =$$

Задача 11: Найти площадь области, ограниченной

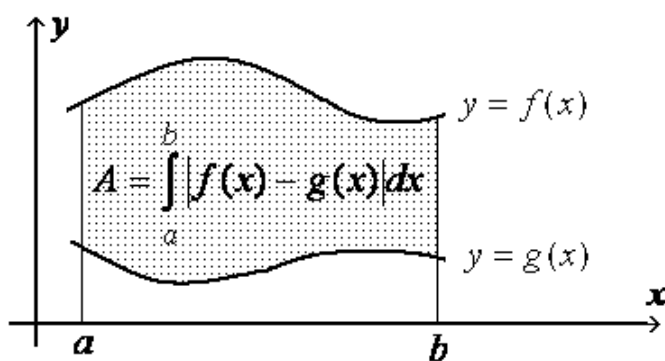
Problem 11: Find the area of the region bounded by the graphs of

графиками функций $y = 3x$ и $y = x^2$ | the functions $y = 3x$ and $y = x^2$.

Решение/ Solution:



Подсказка / Hint:



Список литературы | References

1. V.V. Konev. Preparatory Course of Mathematics. Textbook. Tomsk. TPU Press, 2009, 108p.
2. V.V. Konev. Mathematics, Preparatory Course: Algebra. Workbook. TPU Press, 2009, 58p.
3. V.V. Konev. Mathematics, Preparatory Course: Trigonometry and Geometry. Workbook. Tomsk. TPU Press, 2009, 32p.
4. V.V. Konev. The Elements of Mathematics. Textbook. The Second Edition. Tomsk: TPU Press, 2001, 140 p.
5. V.V. Konev. Higher Mathematics, Part 2. Textbook. The Second Edition. Tomsk. TPU Press, 2009, 134p.

Valery V. Konev, Associate Professor of the Higher Mathematics Department,
TPU, Ph.D.

The Elements of Mathematics

Workbook

Reviewed by: V.A. Kilin, Professor of the Higher Mathematics Department. TPU,
D.Sc.